

1 Wiederholung

1.1 Zahlen darstellen


Hinweis

Mache einen Haken, wenn du alle Aufgaben eines Lernpakets gelöst hast und lasse dir von deiner Fachlehrerin oder deinem Fachlehrer mit einem Stempel bestätigen, dass alles erledigt ist.

Teilziele: Los geht's!

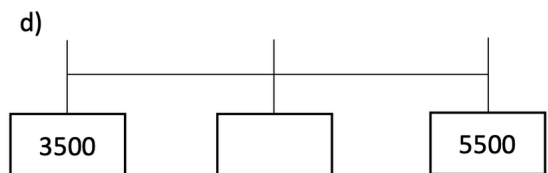
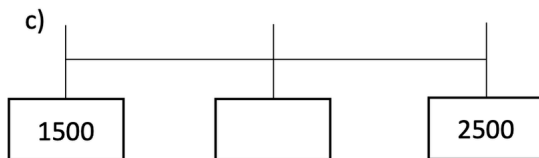
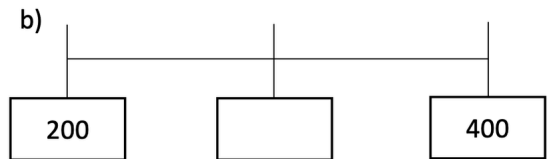
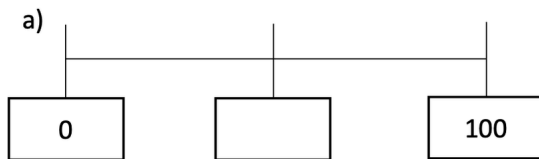
Zahlenstrahl	Ich kann Zahlen auf dem Zahlenstrahl anordnen und auch ablesen.	
Stellenwerttafel	Ich kann Zahlen in einer Stellenwerttafel darstellen und auch in Worten schreiben.	
Runden	Ich kann richtig runden.	

Alles erledigt? Geh zu deiner Mathe-Lehrkraft für den Check-out-Stempel!



Zahlenstrahl

① Welche Zahl befindet sich in der Mitte?

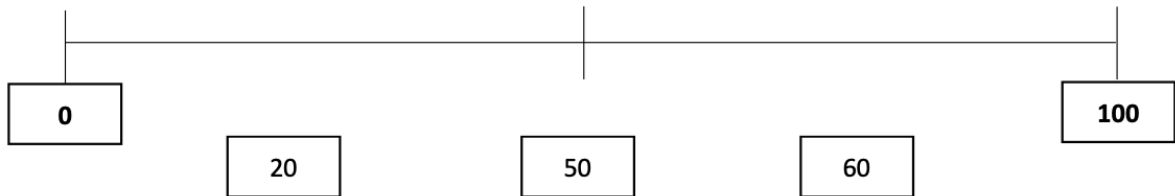


② Gib den Vorgänger und den Nachfolger der Zahl an.

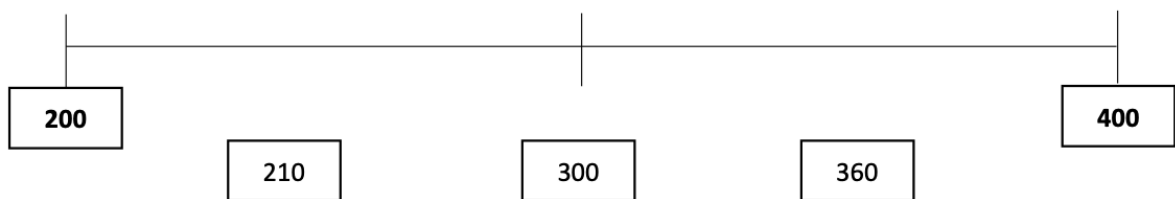
Vorgänger	Zahl	Nachfolger
	10	
	199	
	475	

③ Wo liegen die Zahlen? Ordne die Zahlen und verbinde sie mit dem Zahlenstrahl!

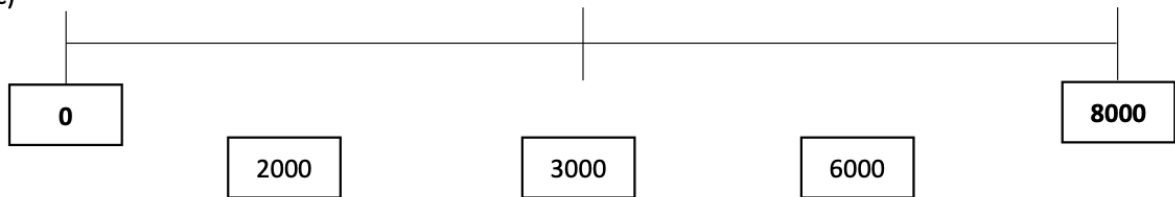
a)



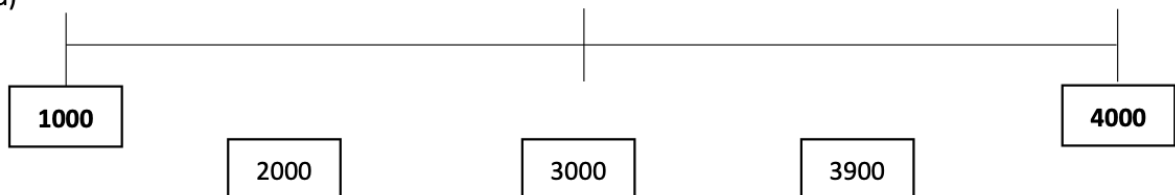
b)



c)



d)



Stellenwerttafel

④ ✓ Bearbeite Aufgabe 4 der Seite 6 in dein Heft. Denk daran, als Überschrift „Wiederholung“ zu schreiben und notiere auch das Datum in den Rand.

⑤ ✓ Bearbeite Aufgabe 5 der Seite 6 in dein Heft.



Diese Aufgabe
im Heft lösen!

Runden

⑥ Runde auf Tausender.

a) $2146 \approx$

c) $3906 \approx$

e) $5524 \approx$

b) $6205 \approx$

d) $8308 \approx$

f) $3225 \approx$

⑦ Runde auf Zehner.

a) $20758 \approx$

d) $69708 \approx$

g) $79933 \approx$

b) $39109 \approx$

e) $42336 \approx$

h) $56837 \approx$

c) $65262 \approx$

f) $31822 \approx$

i) $36922 \approx$

⑧ Runde auf Hunderter.

a) $36335 \approx$

d) $73294 \approx$

g) $71976 \approx$

b) $52472 \approx$

e) $72813 \approx$

h) $51336 \approx$

c) $60403 \approx$

f) $90473 \approx$

i) $51429 \approx$

⑨ Runde auf Tausender.

a) $35135 \approx$

d) $38234 \approx$

g) $58443 \approx$

b) $66784 \approx$

e) $89882 \approx$

h) $76646 \approx$

c) $19436 \approx$

f) $40458 \approx$

i) $80934 \approx$

⑩ Runde auf Hunderter.

a) $6053 \approx$

c) $8083 \approx$

e) $3918 \approx$

b) $4089 \approx$

d) $1218 \approx$

f) $4167 \approx$

**Alle Aufgaben erledigt?**

Dann hole die Lösungen bei deiner Mathe-Lehrkraft ab und verbessere deine Aufgaben mit einem Farbstift.

Check-out

Schätze deine Arbeit ein!

Selbstständigkeit	<input type="radio"/>	<input type="radio"/>	<input type="radio"/>	<input type="radio"/>	<input type="radio"/>	<input type="radio"/>	<input type="radio"/>
Arbeitstempo	<input type="radio"/>	<input type="radio"/>	<input type="radio"/>	<input type="radio"/>	<input type="radio"/>	<input type="radio"/>	<input type="radio"/>
Motivation	<input type="radio"/>	<input type="radio"/>	<input type="radio"/>	<input type="radio"/>	<input type="radio"/>	<input type="radio"/>	<input type="radio"/>