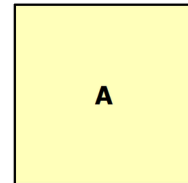
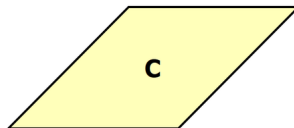
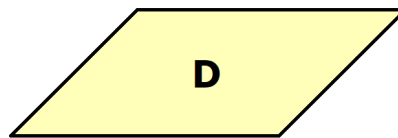
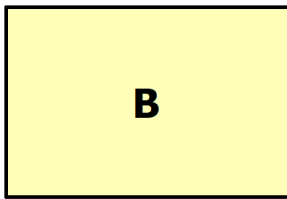


① Benenne die folgenden Figuren.

A D B C 

② Notiere die Vierecke, zu denen die folgenden Sätze passen.

a) Die Winkel betragen alle jeweils 90° .

b) Die gegenüberliegenden Winkel sind gleich groß, aber nicht 90° .

c) Alle Seiten sind gleich lang.

d) Nur die gegenüberliegenden Seiten sind gleich lang.

e) Die gegenüberliegenden Seiten sind parallel zueinander.