









Die „häufigste Würfelzahl“?

- ① Welche Zahl würfelt ihr am häufigsten. Würfelt 20 - mal und tragt die Zahl in die Tabelle ein.



| | | | | | | |
|--------------------------------------------------------------------------------------------------|-----------------------------------------------------------------------------------|-----------------------------------------------------------------------------------|-----------------------------------------------------------------------------------|-----------------------------------------------------------------------------------|------------------------------------------------------------------------------------|-------------------------------------------------------------------------------------|
| Würfelzahl |  |  |  |  |  |  |
| Strichliste  | | | | | | |
| Anzahl | | | | | | |

- ② Stellt eure Ergebnisse in einem Diagramm dar.

