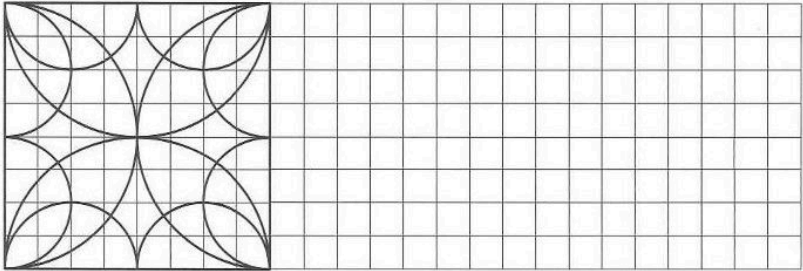


Zirkelübungen
Setze das Muster fort. Du kannst dein Bild farbig anlegen.






erledigt kontrolliert

Achsensymmetrische Buchstaben
Streiche alle Buchstaben, die nicht achsensymmetrisch gemacht werden können. Welche Buchstaben haben zwei Symmetrieachsen?

A B C D E F G H I J K L M
N O P Q R S T U V W X Y Z

erledigt kontrolliert

Quader- und Würfelnetze
Ergänze die unvollständigen Netze.

A  **B**  **C** 

erledigt kontrolliert

Lauter Kettenaufgaben
Übertrage die Kettenaufgaben aus der Tabelle in die freien Felder und rechne sie aus.

+	1370	2092	3219	1519	-
4740	J		B		4971
3753		F	A	D	
1231	G	I			
1745	C	H		E	2284

A	$3753 + 3219 - 4971 =$
B	$4740 + 3219 =$
C	$1745 =$
D	
E	
F	
G	
H	
I	
J	

erledigt kontrolliert

Römische Zahlzeichen
Die römischen Zahlen sind I = 1; V = 5, X = 10, L = 50, C = 100, D = 500, M = 1000. Schreibe die römischen Zahlzeichen mit unseren arabischen Ziffern.

XXIV =	CVII =	MXX =	MDCCLXIV =
LXIX =	CXIV =	CDIV =	MCCCXLVI =
CXLV =	MDC =	CCIX =	MDCXXIII =

erledigt kontrolliert

