


Sachaufgaben

A Eine fangfrische Forelle kostet 5,83 €. Frau Brat-Hering kauft für ihre Familie drei Forellen. 

B Kai überlegt: „Noch 11520 Minuten, dann sind Ferien.“ Wie viele Tage sind es noch bis dahin?

C In einem Stall befinden sich Hasen und Hühner. Uwe zählt 54 Beine und 21 Köpfe. Wie viele Hasen sind es, wie viele Hühner?

D Eine Flasche Rotwein und eine Flasche Weißweinkosten zusammen 12 €. Der Rotwein ist um 4 € teurer als der Weißwein. Was kostet der Rotwein?

E Herr und Frau Alt zahlen für eine Ferienwohnung 85 € pro Tag. Die Endreinigung kostet 35 €, die Kurtaxe pro Tag und pro Person 1,20 €. Sie machen 14 Tage Urlaub.

erledigt kontrolliert

Spaß mit Knobeln

A Lege ein Streichholz so um, dass die Rechnung stimmt.

B Wie viele Dreiecke kannst du zählen?

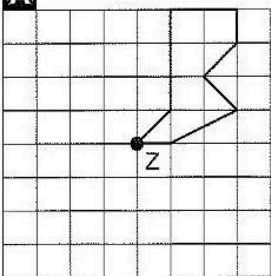
C Lege zwei Streichhölzer um und die Rechnung stimmt!

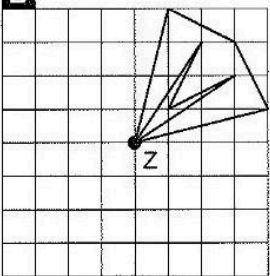
D Lege zwei Streichhölzer um und die Rechnung stimmt!

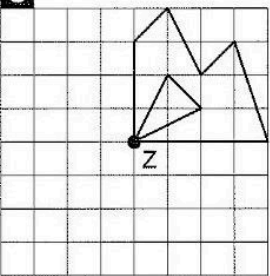
erledigt kontrolliert

Drehsymmetrische Figuren

Drehe die Figuren um den Punkt Z jeweils um 90° entgegen dem Uhrzeigersinn. Du kannst dein Bild farbig ausmalen.

A 

B 

C 

erledigt kontrolliert

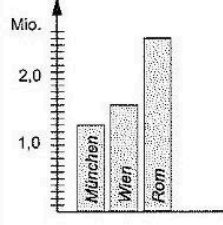
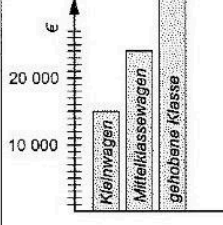

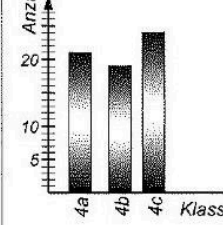
Daten und Diagramme

A Wie viele Einwohner hat München?

B Wie teuer ist der Mittelklassewagen?

C Wie viel Taschengeld haben alle Kinder zusammen?

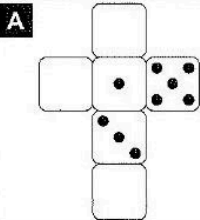
D Wie viele Kinder sind in der Klassenstufe 4?

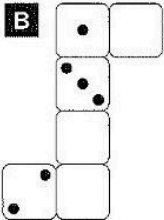
Mio.    

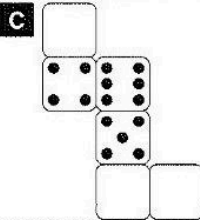
erledigt kontrolliert


Ergänzen von Würfelaugen

Trage die Würfelaugen ein. Du weißt ja, dass die Augen gegenüberliegender Flächen zusammen immer 7 ergeben.

A 

B 

C 

D 

erledigt kontrolliert

