


Sachaufgaben

A Eine fangfrische Forelle kostet 5,83 €. Frau Brat-Hering kauft für ihre Familie drei Forellen. 

B Kai überlegt: „Noch 11520 Minuten, dann sind Ferien.“ Wie viele Tage sind es noch bis dahin?

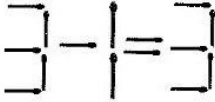
C In einem Stall befinden sich Hasen und Hühner. Uwe zählt 54 Beine und 21 Köpfe. Wie viele Hasen sind es, wie viele Hühner?

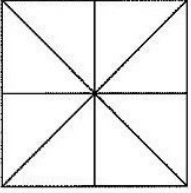
D Eine Flasche Rotwein und eine Flasche Weißweinkosten zusammen 12 €. Der Rotwein ist um 4 € teurer als der Weißwein. Was kostet der Rotwein?

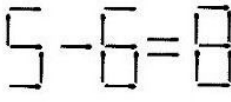
E Herr und Frau Alt zahlen für eine Ferienwohnung 85 € pro Tag. Die Endreinigung kostet 35 €, die Kurtaxe pro Tag und pro Person 1,20 €. Sie machen 14 Tage Urlaub.

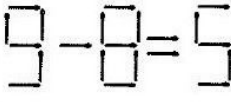
erledigt kontrolliert

Spaß mit Knobeln

A Lege ein Streichholz so um, dass die Rechnung stimmt.
 

B Wie viele Dreiecke kannst du zählen?
 

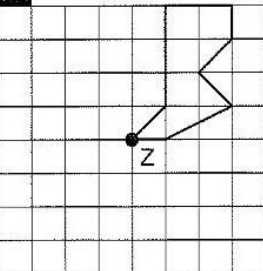
C Lege zwei Streichhölzer um und die Rechnung stimmt!
 

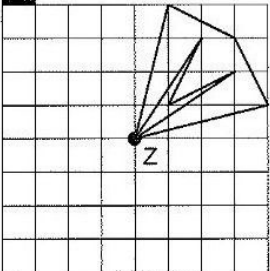
D Lege zwei Streichhölzer um und die Rechnung stimmt!
 

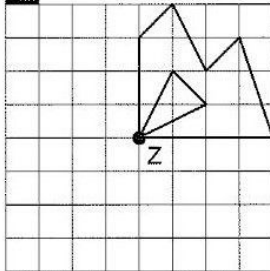
erledigt kontrolliert

Drehsymmetrische Figuren

Drehe die Figuren um den Punkt Z jeweils um 90° entgegen dem Uhrzeigersinn. Du kannst dein Bild farbig ausmalen.

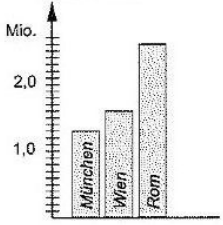
A 

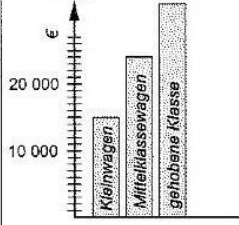
B 

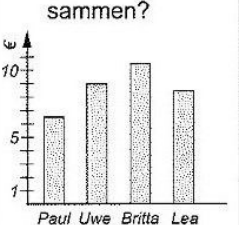
C 

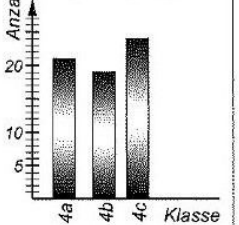
erledigt kontrolliert

Daten und Diagramme

A Wie viele Einwohner hat München?
 

B Wie teuer ist der Mittelklassewagen?
 

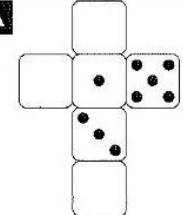
C Wie viel Taschengeld haben alle Kinder zusammen?
 

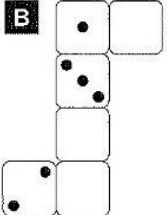
D Wie viele Kinder sind in der Klassenstufe 4?
 

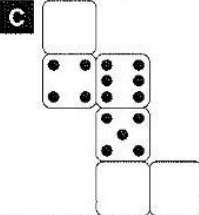
erledigt kontrolliert

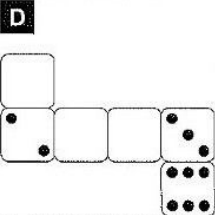
Ergänzen von Würfelaugen

Trage die Würfelaugen ein. Du weißt ja, dass die Augen gegenüberliegender Flächen zusammen immer 7 ergeben.

A 

B 

C 

D 

erledigt kontrolliert

