

Schriftliche Division
Dividiere schriftlich.

A $2988 : 36 =$

B $1786 : 19 =$

C $1624 : 29 =$

D $4512 : 47 =$

Lösungswort:
A B C D

81 (P)
82 (M)
83 (W)

94 (U)
95 (I)
96 (Ä)

55 (N)
56 (R)
57 (S)


96 (M)
97 (A)
98 (I)

erledigt
kontrolliert

Sachaufgaben

A Uwes Fahrrad ist 200 € teurer als Kais Fahrrad. Die beiden Räder haben 1100 € gekostet. Wie teuer war Kais Rad?

B Wie heißt die kleinste vierstellige Zahl, die aus den Ziffern 0, 3, 5 und 7 gebildet werden kann?

C Harry kaufte letzte Woche sechs Beefburger. Was hat er insgesamt bezahlt?
Nur 1,85 € 

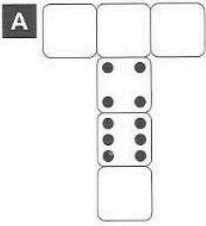
D Lehrer Walknix fährt die 7,5 km zur Schule und zurück. Wie viele Kilometer legt er in einer Schulwoche mit 5 Tagen zurück?

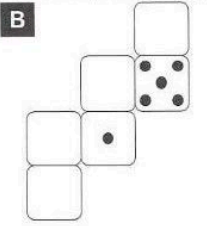
E Sechs Mehrkornbrötchen kosten 3,72 €. Herr Meier braucht für seine Familie aber neun solcher Brötchen. Was bezahlt er?

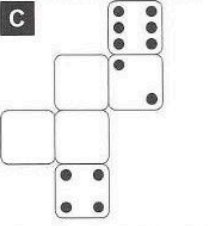
F Ein Ferienlager begann am 24. Juli und endete am 12. August. Wie viele Tage dauerte es?

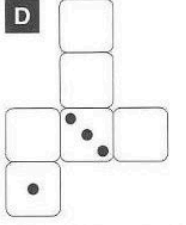
erledigt
kontrolliert

Ergänzen von Würfelaugen
Trage die Würfelaugen ein. Du weißt ja, dass die Augen gegenüberliegender Flächen zusammen immer 7 ergeben.

A 

B 

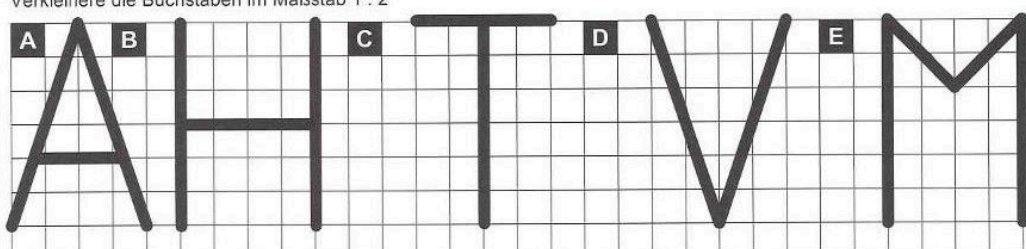
C 

D 

erledigt
kontrolliert

Vergrößern und Verkleinern
Verkleinere die Buchstaben im Maßstab 1 : 2

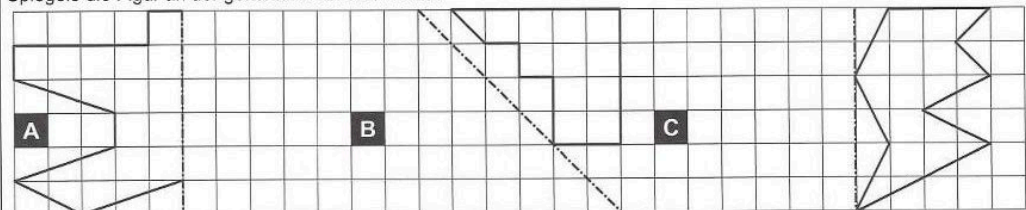
A **B** **C** **D** **E**



erledigt
kontrolliert

Spiegeln im Gitternetz
Spiegele die Figur an der gekennzeichneten Achse.

A **B** **C**



erledigt
kontrolliert

