

**Schriftliche Division**  
Dividiere schriftlich.

**A**  $2988 : 36 =$

**B**  $1786 : 19 =$

**C**  $1624 : 29 =$

**D**  $4512 : 47 =$

**Lösungswort:**  
A B C D

81 (P)    
82 (M)    
83 (W)

94 (U)    
95 (I)    
96 (Ä)

55 (N)    
56 (R)    
57 (S)


96 (M)    
97 (A)    
98 (I)

erledigt   
kontrolliert

**Sachaufgaben**

**A** Uwes Fahrrad ist 200 € teurer als Kais Fahrrad. Die beiden Räder haben 1100 € gekostet. Wie teuer war Kais Rad?

**B** Wie heißt die kleinste vierstellige Zahl, die aus den Ziffern 0, 3, 5 und 7 gebildet werden kann?

**C** Harry kaufte letzte Woche sechs Beefburger. Was hat er insgesamt bezahlt?  
Nur 1,85 € 

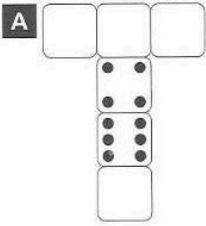
**D** Lehrer Walknix fährt die 7,5 km zur Schule und zurück. Wie viele Kilometer legt er in einer Schulwoche mit 5 Tagen zurück?

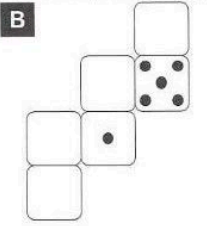
**E** Sechs Mehrkornbrötchen kosten 3,72 €. Herr Meier braucht für seine Familie aber neun solcher Brötchen. Was bezahlt er?

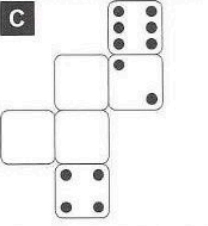
**F** Ein Ferienlager begann am 24. Juli und endete am 12. August. Wie viele Tage dauerte es?

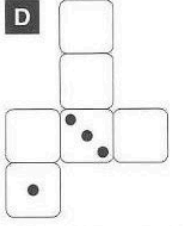
erledigt   
kontrolliert

**Ergänzen von Würfelaugen**  
Trage die Würfelaugen ein. Du weißt ja, dass die Augen gegenüberliegender Flächen zusammen immer 7 ergeben.

**A** 

**B** 

**C** 

**D** 

erledigt   
kontrolliert

**Vergrößern und Verkleinern**  
Verkleinere die Buchstaben im Maßstab 1 : 2

**A** **B** **C** **D** **E** **M**

erledigt   
kontrolliert

**Spiegeln im Gitternetz**  
Spiegele die Figur an der gekennzeichneten Achse.

**A** **B** **C**

erledigt   
kontrolliert

