

**Rechnen mit Geld**  
Wandle die Geldbeträge wie im Beispiel um und ordne dann die Eurobeträge der Größe nach.

3456 ct	1083 ct			100271 ct	8 ct
34 € 56 ct		2 € 47 ct		0 € 79 ct	
34,56 €			189,35 €		

erledigt  kontrolliert

**Dividieren von Kommazahlen**  
Wandle die Meterangaben in cm um und dividiere.

**A** 14,56 m : 13  
 cm : 13 =  cm

**B** 36,72 m : 17  
 cm : 17 =  cm

**C** 84,76 m : 26  
 cm : 26 =  cm





erledigt  kontrolliert

**Geometrische Körper**  
Welcher Körper wird gesucht? Trage in die grauen Kästchen den Namen ein.

<b>WANTED</b> Gesucht wird ein Körper mit 6 Flächen 8 Ecken 12 Kanten	<b>WANTED</b> Gesucht wird ein Körper mit 2 Flächen 1 Ecke 1 Kante	<b>WANTED</b> Gesucht wird ein Körper mit 1 Fläche 0 Ecken 0 Kanten	<b>WANTED</b> Gesucht wird ein Körper mit 3 Flächen 0 Ecken 2 Kanten	<b>WANTED</b> Gesucht wird ein Körper mit 5 Flächen 5 Ecken 8 Kanten
<input type="text"/>	<input type="text"/>	<input type="text"/>	<input type="text"/>	<input type="text"/>


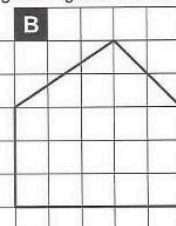
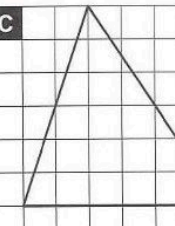
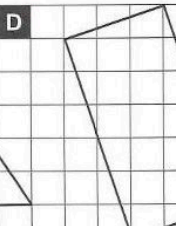
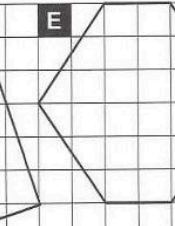
erledigt  kontrolliert

**Rechtecke und Quadrate**  
Zeichne die angefangenen Rechtecke und Quadrate fertig und markiere jeweils die rechten Winkel.

**A**  **B**  **C**  **D** 

erledigt  kontrolliert

**Umfang ebener Figuren**  
Wie groß ist der Umfang der Figuren in cm?

**A**  **B**  **C**  **D**  **E** 

Umfang Figur A:     Umfang Figur B:     Umfang Figur C:     Umfang Figur D:     Umfang Figur E:

erledigt  kontrolliert

