

<input type="checkbox"/> erledigt <input type="checkbox"/> kontrolliert	Zeitspannen Berechne.			
	Ein Bus startet um 9 ¹² Uhr und fährt bis 15 ²⁷ Uhr. Wie lange war er unterwegs? 	Uwe fährt 2 h und 25 min mit dem Zug. Abfahrt war um 12 ⁴⁷ Uhr. Wann kommt er an? 	Wie viel Zeit ist vergangen an diesem Vormittag? 	Die Raumfähre Challenger befand sich 1128 Stunden im All. Wie viele Tage waren das? 

<input type="checkbox"/> erledigt <input type="checkbox"/> kontrolliert	Subtraktion bis 10 000 mit Überschreitung Rechne die Aufgaben aus und schreibe die Lösungen in die freien Felder. Zeichne rechts im Kontrollfeld eine gerade Linie vom Aufgabenbuchstaben zur Lösung.	
	A 8300 – 4780 = <input type="text"/>	G 7250 – 4620 = <input type="text"/>
B 5860 – 3970 = <input type="text"/>	H 9590 – 5310 = <input type="text"/>	
C 7070 – 4890 = <input type="text"/>	I 5050 – 2450 = <input type="text"/>	
D 6550 – 4170 = <input type="text"/>	J 7830 – 1950 = <input type="text"/>	
E 4830 – 2020 = <input type="text"/>	K 5740 – 2720 = <input type="text"/>	
F 9800 – 6720 = <input type="text"/>	L 5650 – 1360 = <input type="text"/>	

A

B

C

D

E

F

G


H

I

J

K

L



2180

3520

1890

4280

2810

3080

2630

2380



4290

5880

3020

2600

<input type="checkbox"/> erledigt <input type="checkbox"/> kontrolliert	Muster und Ordnungen Zeichne die Muster weiter. Du kannst dein Bild farbig ausmalen.
	

<input type="checkbox"/> erledigt <input type="checkbox"/> kontrolliert	Rechnen mit Geld							
	Adem kauft:  70 Cent	Er bezahlt mit:  Rückgeld	Kai kauft:  17,35 €	Er bezahlt mit:  Rückgeld	Björn kauft:  21,99 €	Er bezahlt mit:  Rückgeld	Heide kauft:  2,73 €	Sie bezahlt mit:  Rückgeld

<input type="checkbox"/> erledigt <input type="checkbox"/> kontrolliert	Strichlisten Wie viele Kinder sind jeweils in den Klassenstufen? Trage die Anzahl in die grauen Felder ein.																										
	<table border="1" style="width: 100%;"> <tr> <th>A</th> <th>Mädchen</th> <th>Jungen</th> </tr> <tr> <td style="background-color: #cccccc;"></td> <td>  </td> <td>  </td> </tr> </table>	A	Mädchen	Jungen				<table border="1" style="width: 100%;"> <tr> <th>B</th> <th>Mädchen</th> <th>Jungen</th> </tr> <tr> <td style="background-color: #cccccc;"></td> <td>  </td> <td>  </td> </tr> </table>	B	Mädchen	Jungen				<table border="1" style="width: 100%;"> <tr> <th>C</th> <th>Mädchen</th> <th>Jungen</th> </tr> <tr> <td style="background-color: #cccccc;"></td> <td>  </td> <td>  </td> </tr> </table>	C	Mädchen	Jungen				<table border="1" style="width: 100%;"> <tr> <th>D</th> <th>Mädchen</th> <th>Jungen</th> </tr> <tr> <td style="background-color: #cccccc;"></td> <td>  </td> <td>  </td> </tr> </table>	D	Mädchen	Jungen		
A	Mädchen	Jungen																									
																											
B	Mädchen	Jungen																									
																											
C	Mädchen	Jungen																									
																											
D	Mädchen	Jungen																									
																											

