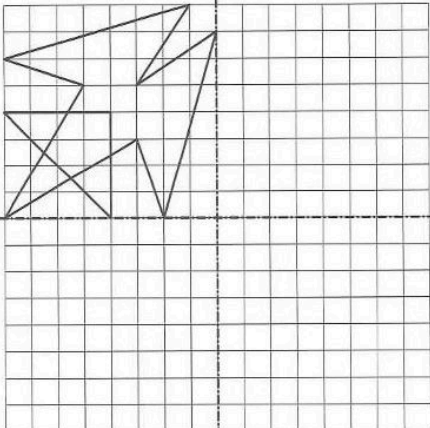
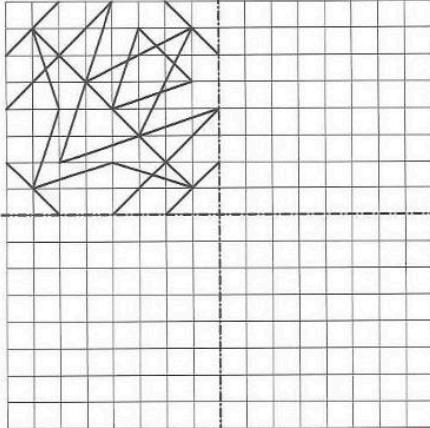


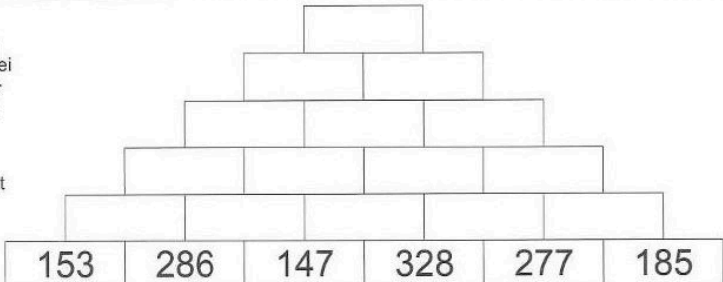
**Spiegeln im Gitternetz**  
 Spiegele das vorgegebene Muster an der senkrechten Achse und anschließend beide Muster an der waagerechten Achse. Du kannst dein Bild farbig anlegen.

**A** 

**B** 

erledigt  kontrolliert

**Zahlenmauern**  
 Setze die Zahlen so in die Zahlenmauer ein, dass zwei Zahlen, die nebeneinander stehen, zusammengezählt immer die Zahl darüber ergeben.  
 Löse die Aufgabe zunächst auf einem Zettel oder im Heft und übertrage dann deine Lösung in diese Zahlenmauer.



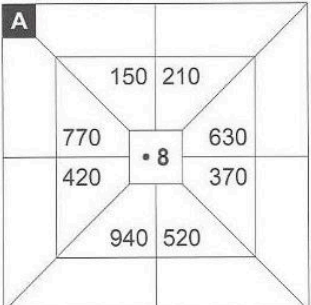
erledigt  kontrolliert

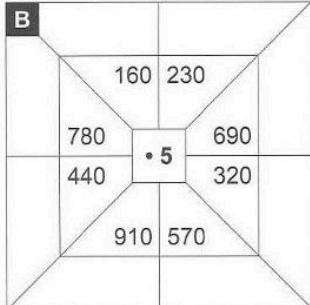
**Vorgänger und Nachfolger**  
 Gib jeweils den Vorgänger und Nachfolger an.

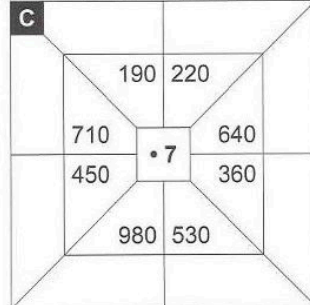
<b>A</b>	11219	<b>B</b>	19900	<b>C</b>	70000
<b>D</b>	71701	<b>E</b>	99189	<b>F</b>	30780
<b>G</b>	30359	<b>H</b>	17911	<b>I</b>	58821

erledigt  kontrolliert

**Multiplizieren und Addieren**  
 Multipliziere mit der Zahl in der Mitte und fülle die leeren Felder aus. Anschließend musst du die acht Ergebnisse addieren.

**A** 

**B** 

**C** 

Endergebnis:       Endergebnis:       Endergebnis:

erledigt  kontrolliert

**Division mit Rest**  
 Dividiere und schreibe den Rest dazu.

<b>A</b>	:	16	<b>B</b>	:	14	<b>C</b>	:	17	<b>D</b>	:	13
62			62			62			62		
85			85			85			85		
131			131			131			131		
145			145			145			145		
177			177			177			177		

erledigt  kontrolliert

