

Schriftliche Subtraktion ohne Überschreitung
 Rechne die Aufgaben schriftlich. Kreuze die passende Antwort an. Aus den Kennbuchstaben der richtigen Lösungen ergibt sich ein Lösungswort.

	A	B	C	D	E	
	$\begin{array}{r} 3974 \\ - 2632 \\ \hline \end{array}$	$\begin{array}{r} 3552 \\ - 1421 \\ \hline \end{array}$	$\begin{array}{r} 5574 \\ - 2433 \\ \hline \end{array}$	$\begin{array}{r} 7365 \\ - 3243 \\ \hline \end{array}$	$\begin{array}{r} 8497 \\ - 5374 \\ \hline \end{array}$	
<input type="checkbox"/> erledigt <input type="checkbox"/> kontrolliert	<input type="radio"/> 1242 (F) <input type="radio"/> 1342 (P) <input type="radio"/> 1331 (H)	<input type="radio"/> 2131 (R) <input type="radio"/> 2231 (A) <input type="radio"/> 2141 (Ü)	<input type="radio"/> 3041 (R) <input type="radio"/> 3141 (I) <input type="radio"/> 3241 (L)	<input type="radio"/> 4132 (L) <input type="radio"/> 4022 (S) <input type="radio"/> 4122 (N)	<input type="radio"/> 3123 (Z) <input type="radio"/> 3023 (T) <input type="radio"/> 3223 (O)	Lösungs- wort: A <input type="checkbox"/> B <input type="checkbox"/> C <input type="checkbox"/> D <input type="checkbox"/> E <input type="checkbox"/>

Schriftliche Addition ohne Überschreitung
 Rechne die Aufgaben schriftlich. Kreuze die passende Antwort an. Aus den Kennbuchstaben der richtigen Lösungen ergibt sich ein Lösungswort.

	A	B	C	D	E	
	$\begin{array}{r} 3174 \\ + 1622 \\ \hline \end{array}$	$\begin{array}{r} 5135 \\ + 1652 \\ \hline \end{array}$	$\begin{array}{r} 4562 \\ + 1435 \\ \hline \end{array}$	$\begin{array}{r} 4547 \\ + 2431 \\ \hline \end{array}$	$\begin{array}{r} 2155 \\ + 4732 \\ \hline \end{array}$	
<input type="checkbox"/> erledigt <input type="checkbox"/> kontrolliert	<input type="radio"/> 4696 (K) <input type="radio"/> 4786 (A) <input type="radio"/> 4796 (S)	<input type="radio"/> 6787 (T) <input type="radio"/> 6687 (B) <input type="radio"/> 6797 (N)	<input type="radio"/> 5897 (E) <input type="radio"/> 5997 (R) <input type="radio"/> 6097 (A)	<input type="radio"/> 6878 (B) <input type="radio"/> 6968 (N) <input type="radio"/> 6978 (O)	<input type="radio"/> 6887 (M) <input type="radio"/> 6877 (E) <input type="radio"/> 6987 (D)	Lösungs- wort: A <input type="checkbox"/> B <input type="checkbox"/> C <input type="checkbox"/> D <input type="checkbox"/> E <input type="checkbox"/>

Lauter Kettenaufgaben
 Übertrage die Kettenaufgaben aus der Tabelle in die freien Felder und rechne sie im Kopf aus.







	+	3700	2100	900	1800	-	
		1200	J		B		1500
		2300		F	A	D	
		3100	G	I			1900
		4500	C	H		E	

A	$2300 + 900 - 1500 =$
B	$1200 + 900 - =$
C	$4500 =$
D	
E	
F	
G	
H	
I	
J	

Rechnen mit Stunden und Minuten
 Bestimme die Uhrzeit. Die Buchstaben der richtigen Lösungen ergeben das Lösungswort.

A	B	C	D	E	
					
Wie spät ist es in 3 h 46 min?	Wie spät ist es in 2 h 15 min?	Wie spät ist es in 3 h 12 min?	Wie spät ist es in 4 h 39 min?	Wie spät ist es in 2 h 36 min?	
<input type="radio"/> 03:12 (L) <input type="radio"/> 02:58 (C) <input type="radio"/> 03:11 (P)	<input type="radio"/> 19:21 (A) <input type="radio"/> 19:28 (R) <input type="radio"/> 19:08 (I)	<input type="radio"/> 12:12 (N) <input type="radio"/> 12:04 (M) <input type="radio"/> 12:08 (R)	<input type="radio"/> 15:15 (P) <input type="radio"/> 14:58 (I) <input type="radio"/> 15:08 (D)	<input type="radio"/> 22:40 (Y) <input type="radio"/> 22:45 (E) <input type="radio"/> 22:41 (S)	Lösungswort: A <input type="checkbox"/> B <input type="checkbox"/> C <input type="checkbox"/> D <input type="checkbox"/> E <input type="checkbox"/>

Zahlenstrahl
 Kreuze die am Zahlenstrahl angezeigte Zahl an. Aus den Kennbuchstaben der Lösungen ergibt sich ein Lösungswort.

A	B	C	D	E	F		
							
100	150	200	250	300	350	400	450
<input type="radio"/> 115 (K) <input type="radio"/> 120 (S) <input type="radio"/> 125 (U)	<input type="radio"/> 160 (H) <input type="radio"/> 150 (N) <input type="radio"/> 155 (O)	<input type="radio"/> 235 (R) <input type="radio"/> 240 (A) <input type="radio"/> 245 (U)	<input type="radio"/> 280 (M) <input type="radio"/> 285 (N) <input type="radio"/> 290 (B)	<input type="radio"/> 355 (A) <input type="radio"/> 360 (E) <input type="radio"/> 365 (U)	<input type="radio"/> 425 (T) <input type="radio"/> 430 (D) <input type="radio"/> 435 (E)	Lösungswort: A <input type="checkbox"/> B <input type="checkbox"/> C <input type="checkbox"/> D <input type="checkbox"/> E <input type="checkbox"/> F <input type="checkbox"/>	

