
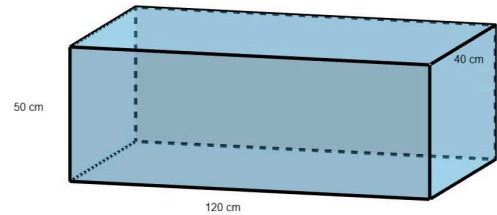


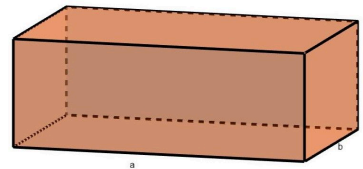
VI.3 Volumen eines Quaders

- ① Peter und seine Schwester Simone haben von ihrer Oma zu Weihnachten ein Aquarium geschenkt bekommen. Nach dem Befüllen fällt ihnen auf, dass sie das Wasser für die Fische speziell aufbereiten müssen. Um das dafür vorgesehene Mittel richtig zu dosieren, brauchen sie die Wassermenge, die sich im Aquarium befindet.
- Berechne, wie viele Liter Wasser die beiden in das Aquarium gefüllt haben.

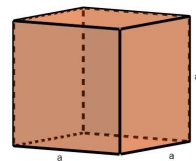


Merke:

Das Volumen eines Quaders mit den Kantenlängen a , b und c beträgt:



Das Volumen V eines Würfels mit der Kantenlänge a beträgt:



- ② Berechne das Volumen:

- a) deines
Mathebuchs
b) deines
Gedlbeutels
c) deines Handys
oder Tablets

