

① Benenne die folgenden Figuren

○ / 5

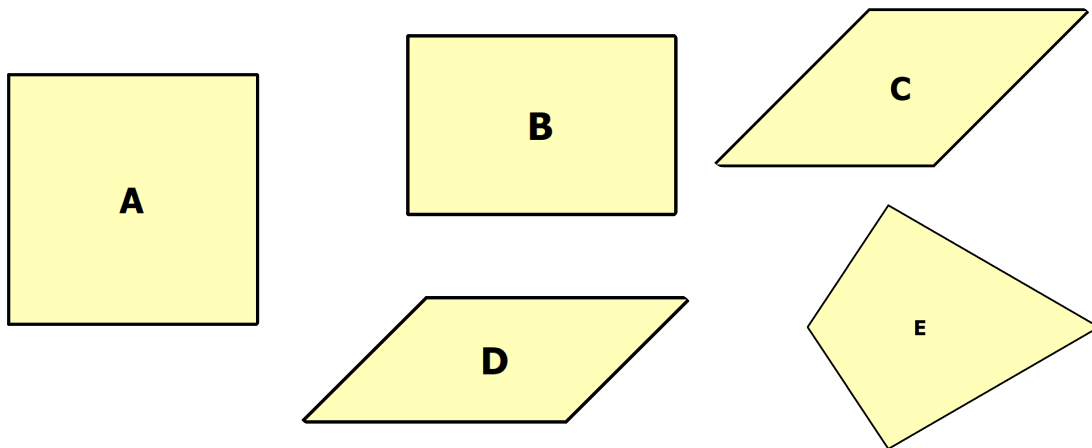
A: \_\_\_\_\_

D: \_\_\_\_\_

B: \_\_\_\_\_

E: \_\_\_\_\_

C: \_\_\_\_\_



② Welche Figuren passen zu den folgende Aussage?

○ / 9

Zur Auswahl stehen Quadrat, Rechteck, Parallelogramm und Raute.

Bei diesen Figuren ...

a) ... stehen die anliegenden Seiten senkrecht zueinander:

\_\_\_\_\_

b) ... stehen die anliegenden Seiten **nicht** senkrecht zu einander:

\_\_\_\_\_

c) ... sind **nur** die Seiten gleich lang, die sich gegenüber liegen:

\_\_\_\_\_

d) ... sind alle Seiten gleich lang:


\_\_\_\_\_

Welche der obigen Sätze passt zu einem Drachen? Nenne die Aufgabe:

\_\_\_\_\_


- ③ Berechne zu den folgenden Figuren mit den folgenden Angaben den **Umfang ( $u$ )** und zu Aufgabe den **Flächeninhalt ( $A$ )**: / 16

- a) Quadrat:  $a = 4 \text{ cm}$   
b) Rechteck:  $a = 3 \text{ cm}$  ;  $b = 5 \text{ cm}$   
c) Parallelogramm:  $a = 5 \text{ cm}$  ;  $b = 6 \text{ cm}$   
d) Raute:  $a = 6 \text{ cm}$



- ④ Berechne zu den folgenden Figuren die **Seite  $a$** : / 8

- a) Quadrat:  $A = 81 \text{ cm}^2$   
b) Rechteck:  $b = 5 \text{ cm}$  ;  $A = 45 \text{ cm}^2$   
c) Quadrat:  $u = 32 \text{ cm}$   
d) Rechteck:  $b = 8 \text{ cm}$  ;  $u = 42 \text{ cm}$



Punkte: / 38

Note

Datum / Unterschrift d. Erziehung.