

- ① Löse die Aufgabe 2 auf der folgenden Internetseite: <https://t1p.de/vierecke1>





- ② Kreuze an, fall die Aussage stimmt. Als Hilfe kannst du dir noch einmal das Video von Lehrer Schmidt angucken. <https://t1p.de/vierecke2>





Viereckart	Parallele Seiten	rechte Winkel	4 gleichlange Seiten	2 Paar gleich große Winkel
Quadrat				
Rechteck				
Parallelogramm				
Trapez				
Drache				


- ③ **Benenne** die Vierecke richtig und **begründe**, warum es sich um die Viereckart handelt.


a) 


b) 

c) 

d) 

e) 

f) 



**Mathematik**