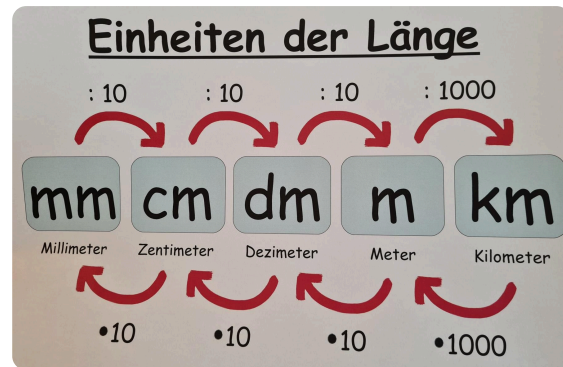
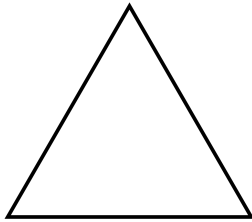


① **Rechne in die Einheit um, die in Klammern steht.**

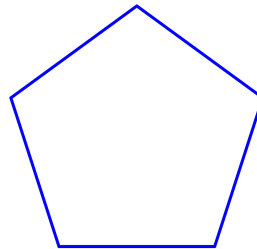
- a) 3,7dm (cm)
- b) 8km (m)
- c) 42mm (cm)
- d) 5,4dm (cm)
- e) 0,28m (dm)
- f) 328mm (m)
- g) 73,25dm (mm)
- h) 6474mm (m)

② **Benenne** die Vielecke und **begründe**, warum sie so heißen.

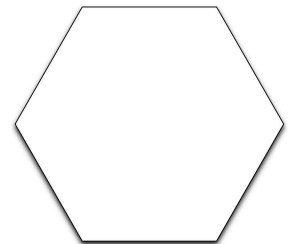
a)



b)



c)



Dieses Vieleck heißt , weil es hat.

③ **Kreuze an**, welche Eigenschaft bei den Vierecken zutrifft.

Du brauchst Hilfe? Schau dir die Merkkästen auf S. 148 an.

Eigenschaft	Quadrat	Rechteck	Paralleloramm
hat vier Ecken			
alle Seiten sind gleich lang			
alle Winkel sind 90° groß			
gegenüberliegende Seiten sind parallel			
gegeüberliegende Seiten sind gleich lang			
die gegenüberliegende Winkel sind gleich groß			

④ **Bearbeite** S. 147 Nr. 4 (blau) in deinem Heft.