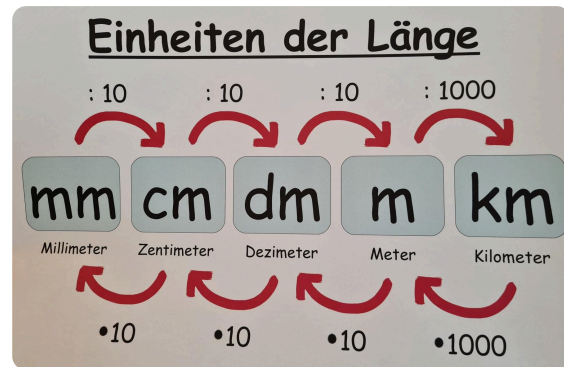


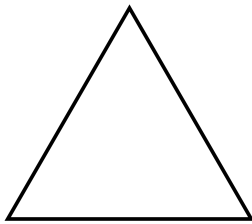
① **Rechne in die Einheit um, die in Klammern steht.**

- a) 3,7dm (cm)
- b) 8km (m)
- c) 42mm (cm)
- d) 5,4dm (cm)
- e) 0,28m (dm)
- f) 328mm (m)
- g) 73,25dm (mm)
- h) 6474mm (m)

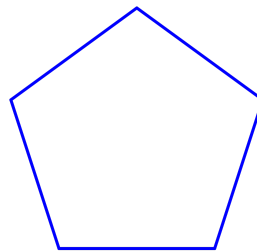


② **Benenne** die Vielecke und **begründe**, warum sie so heißen.

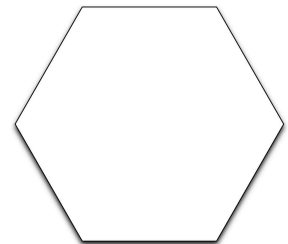
a)



b)



c)



Dieses Vieleck heißt , weil es  hat.

③ **Kreuze an**, welche Eigenschaft bei den Vierecken zutrifft.

*Du brauchst Hilfe? Schau dir die Merkkästen auf S. 148 an.*

Eigenschaft	Quadrat	Rechteck	Paralleloramm
hat vier Ecken			
alle Seiten sind gleich lang			
alle Winkel sind 90° groß			
gegenüberliegende Seiten sind parallel			
gegeüberliegende Seiten sind gleich lang			
die gegenüberliegende Winkel sind gleich groß			

④ **Bearbeite** S. 147 Nr. 4 (blau) in deinem Heft.