



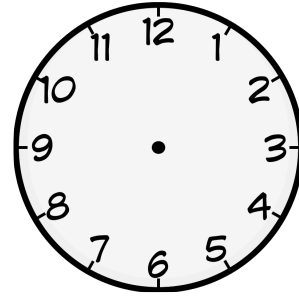
① Zeichne die Zeiger passend zu der Uhrzeit in die Uhren ein.



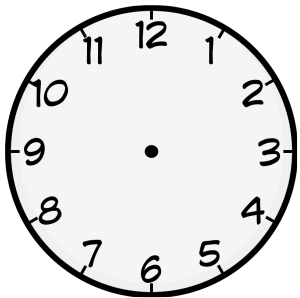
20:15



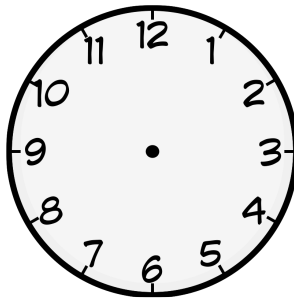
07:30



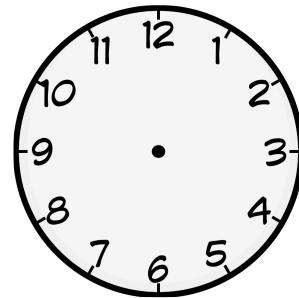
05:45



22:05



12:10

16:35

② Fülle den Lückentext aus!

Ein ganzer Tag hat Stunden.

Eine Stunde hat Minuten.

Eine Minute hat Sekunden.

Auf der Uhr findet man zwei Zeiger.

Einen großen Zeiger, welcher heißt

und einen kleinen Zeiger, welcher

heißt.