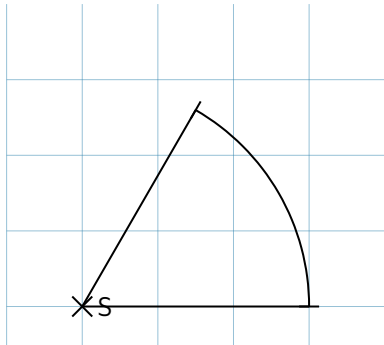


- ① Messe die Größe der jeweiligen Winkel und trage das Ergebnis zu den Winkeln ein. Wie wird der Winkel jeweils bezeichnet?

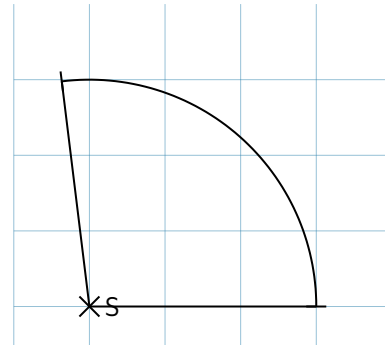
Winkelart:

Winkelgröße:



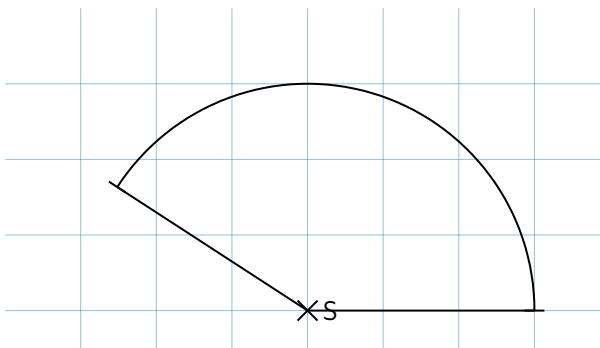
Winkelart:

Winkelgröße:



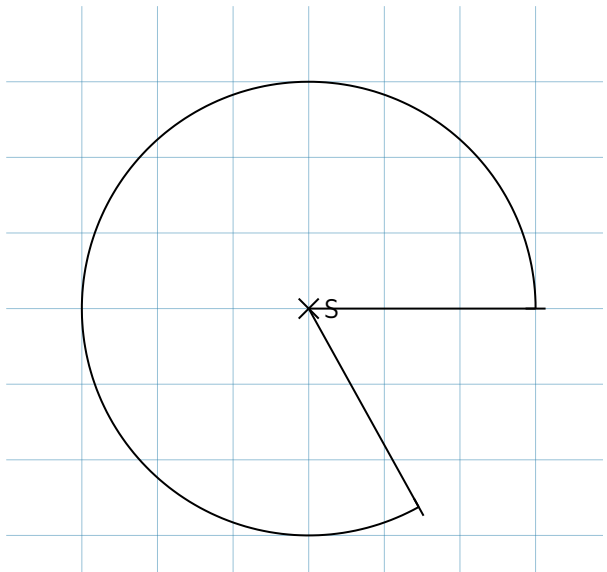
Winkelart:

Winkelgröße:



Winkelart:

Winkelgröße:



- ② Zeichne Winkel mit den folgenden Größen. Wie lautet die Bezeichnung dieser Winkel?

a)  $\alpha = 39^\circ$  \_\_\_\_\_

b)  $\beta = 90^\circ$  \_\_\_\_\_

c)  $\gamma = 360^\circ$  \_\_\_\_\_

d)  $\delta = 294^\circ$  \_\_\_\_\_

e)  $\epsilon = 180^\circ$  \_\_\_\_\_