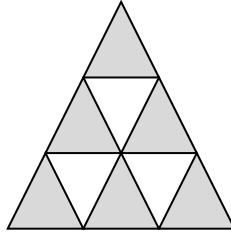
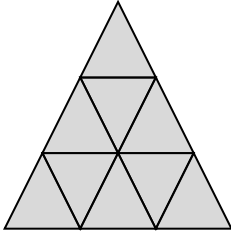


- ① Notiere zu den Figuren Brüche als „unechte Brüche“ und „gemischte Schreibweisen“.

a) \_\_\_\_\_


b) \_\_\_\_\_



- ② Zeichne zu den folgenden Brüchen passende Figuren.

a)  $2\frac{3}{5}$

b)  $\frac{11}{7}$




- ③ Wandle in einen unechten Bruch um.

a)  $3\frac{1}{2}$

b)  $7\frac{3}{4}$

c)  $6\frac{5}{7}$

d)  $7\frac{6}{10}$



- ④ Wandle in eine gemischte Schreibweise um.

a)  $\frac{11}{2}$

b)  $\frac{13}{4}$

c)  $\frac{65}{7}$

d)  $\frac{99}{10}$

