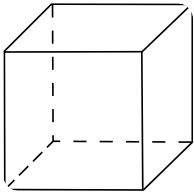
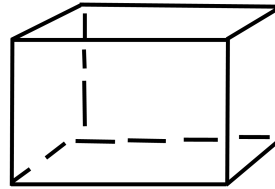
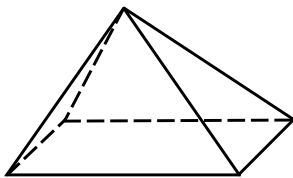



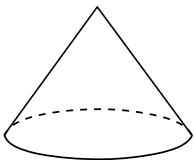
① Benenne die Körper. Markiere die Körper, die ein Prisma sind.




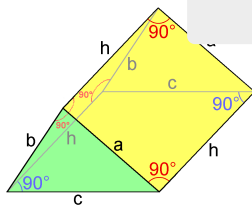













② Fülle die Lücken aus

Ein Prisma hat , Kanten und . Es besitzt zwei , die gleich  und  zueinander sind. Die gegenüberliegenden Kanten sind jeweils  zueinander.

Den Abstand zwischen den Grundflächen nennt man . Die „obere“ Grundfläche wird ebenfalls als  bezeichnet.