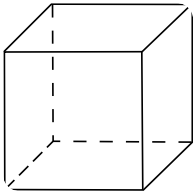
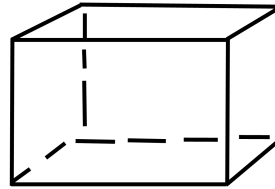
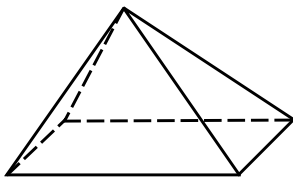



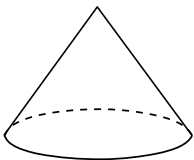
① Benenne die Körper. Markiere die Körper, die ein Prisma sind.




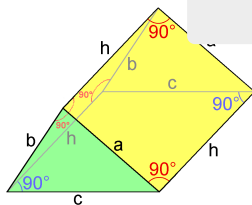












② Fülle die Lücken aus

Ein Prisma hat , Kanten und . Es besitzt zwei , die gleich und zueinander sind. Die gegenüberliegenden Kanten sind jeweils zueinander.

Den Abstand zwischen den Grundflächen nennt man . Die „obere“ Grundfläche wird ebenfalls als bezeichnet.