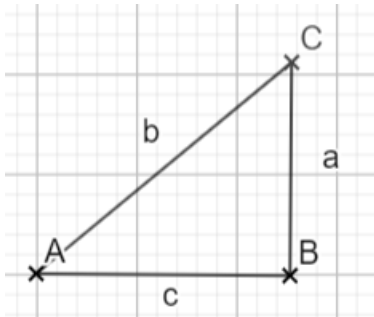
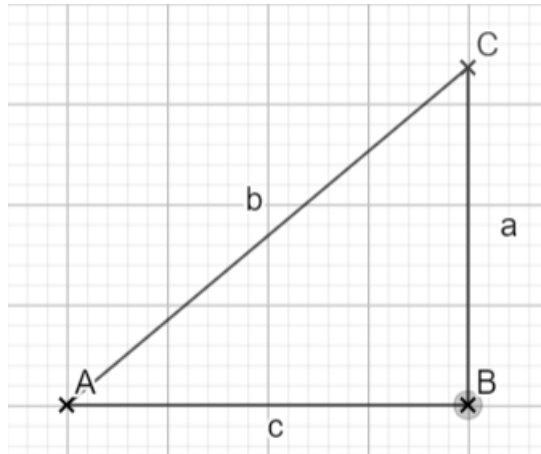


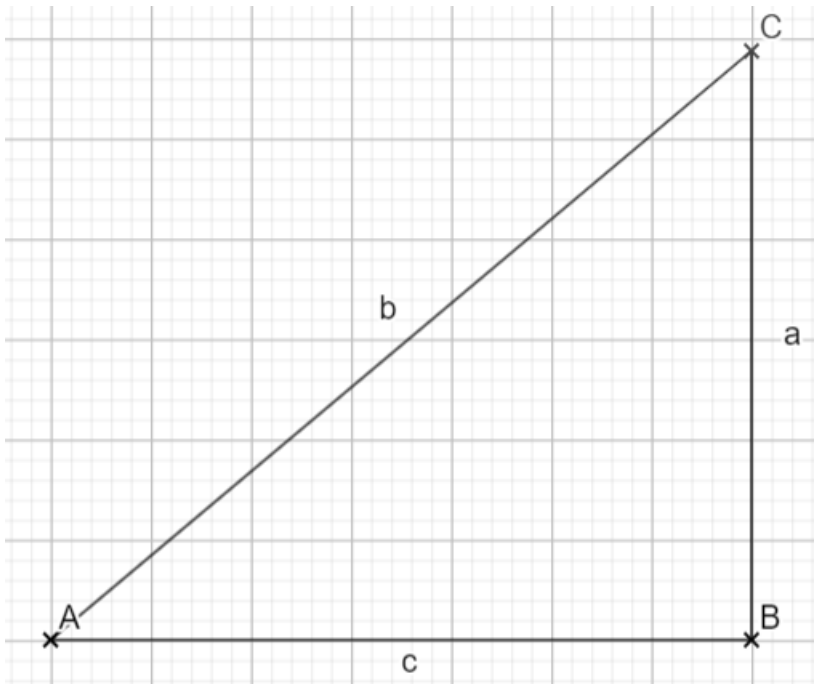
1 Du siehst hier drei verschiedene Dreiecke. Miss möglichst exakt die Seitenlängen und fülle die Tabelle aus. Runde dabei den Quotienten auf 2 Stellen hinter dem Komma.



Dreieck 1



Dreieck 2



Dreieck 3

	a	b	c	a/b	c/b	a/c
Dreieck 1						
Dreieck 2						
Dreieck 3						

Wenn du wissen willst, ob du richtig liegst und wofür das ganze gut sein soll, schaue dir das Video hinter diesem Link an.



<https://vimeo.com/677749047eb04607b2>

Und was versteht man nun unter Sinus, Kosinus und Tangens? Die Antwort findest du in diesem Video.




<https://vimeo.com/67780163971ed18b47b>

2  Alles klar?

Dann guck mal, ob du dein Wissen richtig anwenden kannst. Löse folgende Aufgaben im Buch.

- S. 91 Nr. 1, 2, 5 und 6
-

3  Hinter diesem Link verbirgt sich eine online-Übung bei learningapps. Probier es aus.



<https://learningapps.org/view18500147>
