






Station






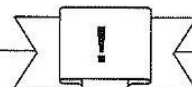
Umwandeln von Gewichten

<p>A Schreibt ohne Komma in der angegebenen Maßeinheit auf.</p>	<p>B Gebt in der angegebenen Maßeinheit an.</p>	<p>C Schreibt mit Komma.</p>
12,7 t <input type="text"/> kg	38000 kg <input type="text"/> t	6 kg 25 g <input type="text"/> kg
0,7 kg <input type="text"/> g	400000 mg <input type="text"/> kg	2 g 520 mg <input type="text"/> g
2,08 g <input type="text"/> mg	2000 g <input type="text"/> kg	5 t 3 kg <input type="text"/> t
0,03 t <input type="text"/> kg	300000 kg <input type="text"/> t	3 kg 200 g <input type="text"/> kg
5,1 kg <input type="text"/> g	310000 g <input type="text"/> t	31 t 75 kg <input type="text"/> t
0,109 t <input type="text"/> kg	170000 mg <input type="text"/> g	17 kg 6 g <input type="text"/> kg
0,001 kg <input type="text"/> mg	5500 kg <input type="text"/> t	$\frac{1}{2}$ kg <input type="text"/> kg
6,25 g <input type="text"/> mg	15000 g <input type="text"/> kg	15 t 50 kg <input type="text"/> t
0,09 t <input type="text"/> g	6000000 mg <input type="text"/> kg	6 g 7 mg <input type="text"/> g
12 kg <input type="text"/> mg	1200 kg <input type="text"/> t	2 kg 700 mg <input type="text"/> kg



Station



Gewicht: Sachaufgaben

Löse die Aufgaben. Die Kennbuchstaben bei den richtigen Lösungen ergeben ein Lösungswort.

A
Ein kleiner Aufzug darf 250 kg transportieren. Greta wiegt 40 kg, ihre zwei Mitfahrer schätzt sie auf jeweils 85 kg. Wie viele kg könnten noch hinzukommen?

S 50 kg
 E 40 kg
 T 60 kg

B
Ein Schälchen Blaubeeren wiegt 375 g. Wie viel kg wiegen 14 dieser Schälchen?

S 5,25 kg
 K 5,5 kg
 H 6,75 kg

C
Ein kleiner Kolibri wiegt ungefähr 2 g. Wie viele Kolibris wiegen ungefähr so viel wie ein Igel, der 1,25 kg wiegt?


U 6250
 A 6000
 S 625

D
Heiko und sein Vater wiegen zusammen 120 kg. Heiko ist nur halb so schwer wie sein Vater. Wie viel kg wiegt sein Vater?

E 90 kg
 L 75 kg
 I 80 kg

E
Eine Giraffe frisst pro Tag 80 kg Blätter. Wie viele Tonnen vertilgt sie in einem Monat mit 30 Tagen?

G 2,4 t
 A 2,5 t
 E 2,6 t



Lösungswort:

A	B	C	D	E

