
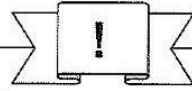


Station






Parallel, senkrecht oder keines von beiden?


Entscheidet, ob die beiden Geraden senkrecht aufeinander stehen oder parallel verlaufen. Die Buchstaben bei den richtigen Lösungen ergeben ein Lösungswort.

A



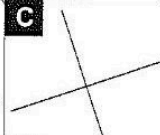
E parallel
K senkrecht
M weder noch

B



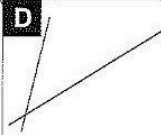
U parallel
X senkrecht
Ü weder noch

C




H parallel
L senkrecht
T weder noch

D




R parallel
L senkrecht
T weder noch

E




I parallel
A senkrecht
W weder noch

F




A parallel
M senkrecht
W weder noch

G




S parallel
U senkrecht
E weder noch

H




D parallel
R senkrecht
S weder noch

I



I parallel
E senkrecht
S weder noch


J




T parallel
R senkrecht
A weder noch


Lösungswort:

| | |
|----------|--|
| A | |
| B | |
| C | |
| D | |
| E | |
| F | |
| G | |
| H | |
| I | |
| J | |



Station

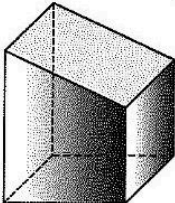




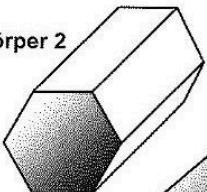
Ecken, Kanten und Flächen von Körpern

Füllt die Tabelle aus.

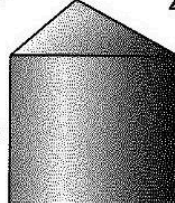
Körper 1



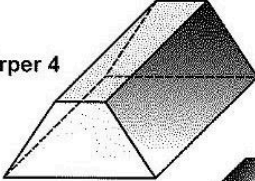
Körper 2



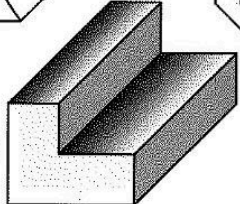
Körper 3



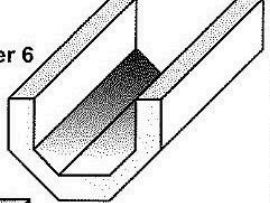
Körper 4



Körper 5



Körper 6



| Anzahl | Körper 1 | Körper 2 | Körper 3 | Körper 4 | Körper 5 | Körper 6 |
|---------|----------|----------|----------|----------|----------|----------|
| Ecken | | | | | | |
| Kanten | | | | | | |
| Flächen | | | | | | |

Mathematik

Seite 1/2

Angaben zu den Urhebern und Lizenzbedingungen der einzelnen Bestandteile dieses Dokuments finden Sie unter <https://www.tutory.de/entdecken/dokument/stationenlernen-mathematik-5-xvi>

