





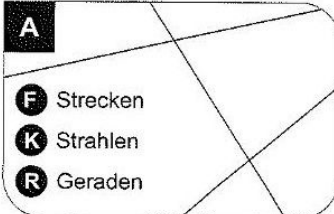
Station

Strecke, Strahl oder Gerade?

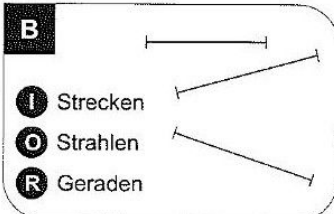
Kreuze an, ob es sich um Strecken, Strahlen oder Geraden handelt. Die Buchstaben bei den richtigen Lösungen ergeben ein Lösungswort.

A



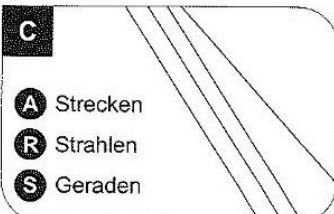
F Strecken
 K Strahlen
 R Geraden

B



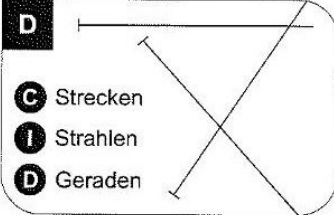
I Strecken
 O Strahlen
 R Geraden

C



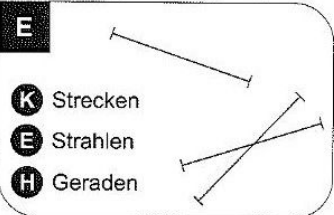
A Strecken
 R Strahlen
 S Geraden

D



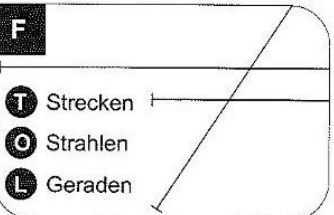
C Strecken
 I Strahlen
 D Geraden

E



K Strecken
 E Strahlen
 H Geraden


F







T Strecken
 O Strahlen
 L Geraden

A	B	C	D	E	F

Lösungswort:




Station

Ecken geometrischer Körper


Bestimme die Anzahl der Ecken der abgebildeten Körper. Die Buchstaben der richtigen Lösungen ergeben das Lösungswort.

A



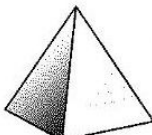
L 2
 B 0
 P 1

B



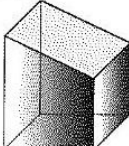
O 1
 A 0
 R 2

C



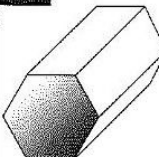
L 5
 N 4
 D 3

D



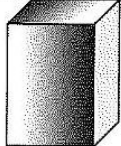
A 8
 D 9
 R 7

E



I 10
 M 11
 S 12

F



L 7
 T 8
 A 9

A	B	C	D	E	F

Lösungswort:

Mathematik

Seite 1/2

Angaben zu den Urhebern und Lizenzbedingungen der einzelnen Bestandteile dieses Dokuments finden Sie unter <https://www.tutory.de/entdecken/dokument/stationenlernen-mathematik-5-xv>

