



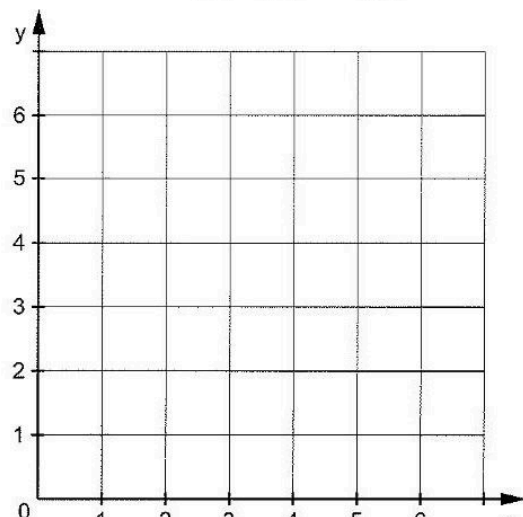
Station

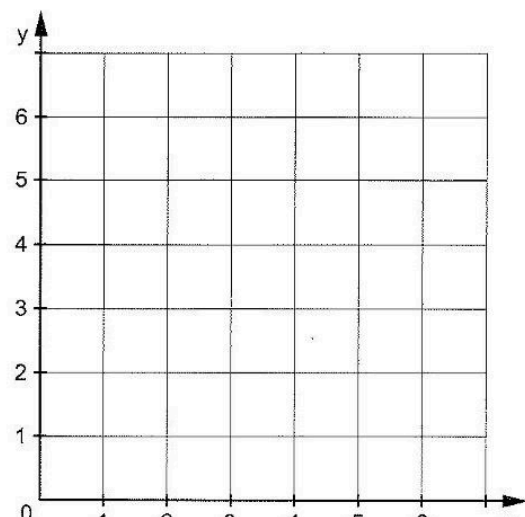




Parallel und senkrecht

A Zeichnet eine Gerade durch die Punkte A(1|2) und B(5|4). Zeichnet dann Parallelen zu dieser Geraden durch die Punkte C(2|5), D(2|1) und E(5|1).



B Zeichnet eine Gerade durch die Punkte A(1|4) und B(7|2). Zeichnet dann Senkrechte zu dieser Geraden durch die Punkte C(2|7), D(3|0), E(4|6) und F(5|1).







Station

Vorgänger - Zahl - Nachfolger

Ergänzt die fehlenden Zahlen.

A

Vorgänger	Zahl	Nachfolger
	20	
		40
199		
	309	
		991
	2701	
	6 000	
8 888		
		90 000
	409 990	

B

Vorgänger	Zahl	Nachfolger
		25
	100	
300		
		1 001
	1 261	
8 999		
66 999		
		79 991
	1 000 000	
		1 246 000

