



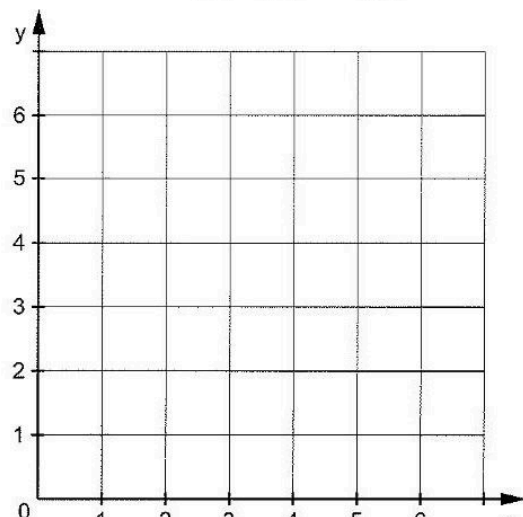
## Station

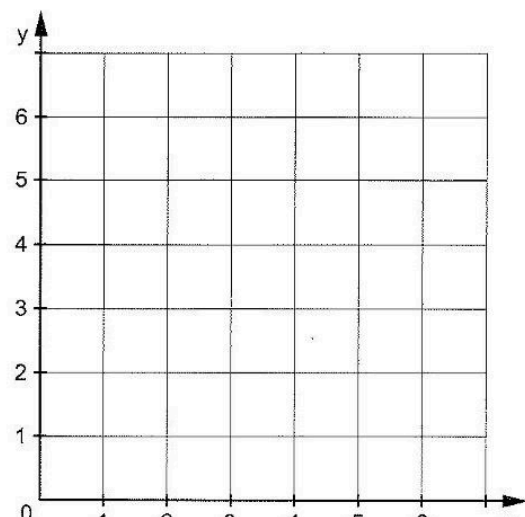




### Parallel und senkrecht

**A** Zeichnet eine Gerade durch die Punkte A(1|2) und B(5|4). Zeichnet dann Parallelen zu dieser Geraden durch die Punkte C(2|5), D(2|1) und E(5|1).



**B** Zeichnet eine Gerade durch die Punkte A(1|4) und B(7|2). Zeichnet dann Senkrechte zu dieser Geraden durch die Punkte C(2|7), D(3|0), E(4|6) und F(5|1).







## Station

### Vorgänger - Zahl - Nachfolger

Ergänzt die fehlenden Zahlen.

**A**

| Vorgänger | Zahl    | Nachfolger |
|-----------|---------|------------|
|           | 20      |            |
|           |         | 40         |
| 199       |         |            |
|           | 309     |            |
|           |         | 991        |
|           | 2701    |            |
|           | 6 000   |            |
| 8 888     |         |            |
|           |         | 90 000     |
|           | 409 990 |            |

**B**

| Vorgänger | Zahl      | Nachfolger |
|-----------|-----------|------------|
|           |           | 25         |
|           | 100       |            |
| 300       |           |            |
|           |           | 1 001      |
|           | 1 261     |            |
| 8 999     |           |            |
| 66 999    |           |            |
|           |           | 79 991     |
|           | 1 000 000 |            |
|           |           | 1 246 000  |

