





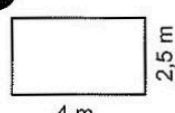

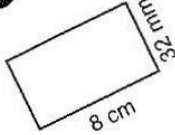
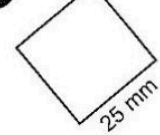
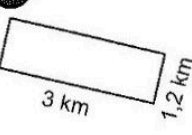
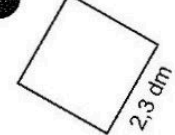

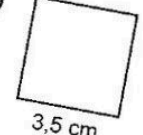
Station








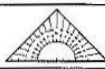



Flächeninhalt Quadrat und Rechteck


Bestimme den Flächeninhalt der einzelnen Quadrate und Rechtecke. Die Kennbuchstaben der richtigen Lösungen liefern dir das Lösungswort.

<p>A</p>  <p style="text-align: center;">4 m 2,5 m</p> <p>12 m² (P) 7,5 m² (R) 10 m² (D)</p>	<p>B</p>  <p style="text-align: center;">6 cm</p> <p>36 cm² (A) 24 cm² (E) 12 cm² (O)</p>	<p>C</p>  <p style="text-align: center;">8 cm 32 mm</p> <p>2360 mm² (R) 2560 mm² (C) 2600 mm² (D)</p>	<p>D</p>  <p style="text-align: center;">25 mm</p> <p>500 mm² (E) 625 mm² (H) 1000 mm² (M)</p>	<p>E</p>  <p style="text-align: center;">3 km 1,2 km</p> <p>3600000 m² (S) 3200000 m² (E) 4,2 km² (G)</p>
<p>F</p>  <p style="text-align: center;">2,3 dm</p> <p>4,6 dm² (S) 529 cm² (B) 8,2 m² (A)</p>	<p>G</p>  <p style="text-align: center;">7 dm 95 cm</p> <p>6650 cm² (A) 6600 cm² (Z) 7000 cm² (E)</p>	<p>H</p>  <p style="text-align: center;">3,5 cm</p> <p>1400 mm² (N) 700 mm² (E) 1225 mm² (U)</p>	<p>Lösungswort:</p> <p style="text-align: center;"> A B C D E F G H </p> <p style="text-align: center;"> <input style="width: 20px; height: 20px; border: 1px solid black;" type="text"/> <input style="width: 20px; height: 20px; border: 1px solid black;" type="text"/> <input style="width: 20px; height: 20px; border: 1px solid black;" type="text"/> <input style="width: 20px; height: 20px; border: 1px solid black;" type="text"/> <input style="width: 20px; height: 20px; border: 1px solid black;" type="text"/> <input style="width: 20px; height: 20px; border: 1px solid black;" type="text"/> <input style="width: 20px; height: 20px; border: 1px solid black;" type="text"/> <input style="width: 20px; height: 20px; border: 1px solid black;" type="text"/> </p>	



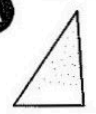




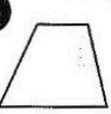

Station



Wie heißen die Flächen?

Ordne den einzelnen Flächen die richtige Bezeichnung zu und verbinde die Aufgaben mit den zugehörigen Lösungen. Aus den Buchstaben, die auf den Verbindungslinien liegen, ergibt sich ein Lösungswort.

<p>A</p> 	<p>B</p> 	<p>C</p> 	<p>D</p> 	<p>E</p> 	<p>F</p> 	<p>G</p> 		
A	S	K	B	P	H	L	G	W
R	P	T	O	M	C	U	M	B
L	T	O	M	C	U	E	B	E
Sechseck	Kreis	Dreieck	Rechteck	Achteck	Quadrat	Trapez		

Lösungswort:

A
B
C
D
E
F
G

