





Station



Additions- und Subtraktionstabellen


Übertrage die Tabellen in dein Heft und fülle sie aus. Schaffst du alle Aufgaben im Kopf?

A




		2. Summand			
	+	362	616	811	422
1. Summand	941				
	578				
	845				
	510				
	761				
	497				
	282				
	612				
	643				


B

		Subtrahend			
	-	117	194	248	412
Minuend	553				
	656				
	719				
	757				
	805				
	826				
	871				
	914				
	966				



Station



Subtraktion mehrerer Subtrahenden

Subtrahiere schriftlich. Die Buchstaben bei den richtigen Antworten ergeben ein Lösungswort.

A

9	2	2
-	1	2
-	4	2

376 (E)
 276 (H)
 366 (P)

B

9	6	7
-	1	4
-	3	5

567 (A)
 467 (I)
 477 (U)

C

8	9	1
-	4	4
-	1	0

243 (R)
 343 (N)
 443 (F)

D

9	0	4
-	4	2
-	3	6

207 (A)
 117 (L)
 107 (S)

E

8	4	8
-	3	2
-	1	3

390 (I)
 490 (M)
 400 (A)

F

9	8	1
-	2	7
-	3	8

309 (A)
 319 (E)
 419 (T)

G

8	0	1
-	1	6
-	1	8

439 (R)
 349 (T)
 449 (D)

H

8	2	3
-	3	5
-	1	1

450 (A)
 350 (L)
 340 (I)

I

9	4	6
-	2	4
-	1	9

502 (E)
 602 (B)
 512 (C)

J

7	1	4
-	2	3
-	3	2

156 (R)
 146 (H)
 256 (O)

Lösungswort: **A B C D E F G H I J**

--	--	--	--	--	--	--	--	--	--

