





Station

Mal mehr, mal weniger

Rechne zuerst alle Aufgaben aus und schreibe die Lösungen in die grauen Felder. Aus den Kennbuchstaben der richtigen Antworten ergeben sich zwei Lösungswörter.

A 38 mehr als das 5fache von 83 <input style="width: 100%; height: 20px; background-color: #cccccc;" type="text"/>	B 93 weniger als das 7fache von 48 <input style="width: 100%; height: 20px; background-color: #cccccc;" type="text"/>	C 126 mehr als das 3fache von 275 <input style="width: 100%; height: 20px; background-color: #cccccc;" type="text"/>	D 341 weniger als das 4fache von 217 <input style="width: 100%; height: 20px; background-color: #cccccc;" type="text"/>
E 58 mehr als das 9fache von 74 <input style="width: 100%; height: 20px; background-color: #cccccc;" type="text"/>	F 213 weniger als das 12fache von 98 <input style="width: 100%; height: 20px; background-color: #cccccc;" type="text"/>	G 73 mehr als das 4fache von 163 <input style="width: 100%; height: 20px; background-color: #cccccc;" type="text"/>	H 66 weniger als das 8fache von 59 <input style="width: 100%; height: 20px; background-color: #cccccc;" type="text"/>
I 49 mehr als das 11fache von 25 <input style="width: 100%; height: 20px; background-color: #cccccc;" type="text"/>	J 79 weniger als das 5fache von 135 <input style="width: 100%; height: 20px; background-color: #cccccc;" type="text"/>	K 165 mehr als das 3fache von 272 <input style="width: 100%; height: 20px; background-color: #cccccc;" type="text"/>	L 248 weniger als das 6fache von 194 <input style="width: 100%; height: 20px; background-color: #cccccc;" type="text"/>

Lösungen mit Kennbuchstaben


243	324	406	453	527	596
I	A	L	E	B	L
724	725	916	951	963	981
Ä	S	M	S	R	O

Lösungswort 1:





A	B	C	D	E	F
<input style="width: 30px; height: 20px; background-color: #cccccc;" type="text"/>	<input style="width: 30px; height: 20px; background-color: #cccccc;" type="text"/>	<input style="width: 30px; height: 20px; background-color: #cccccc;" type="text"/>	<input style="width: 30px; height: 20px; background-color: #cccccc;" type="text"/>	<input style="width: 30px; height: 20px; background-color: #cccccc;" type="text"/>	<input style="width: 30px; height: 20px; background-color: #cccccc;" type="text"/>

Lösungswort 2:

G	H	I	J	K	L
<input style="width: 30px; height: 20px; background-color: #cccccc;" type="text"/>	<input style="width: 30px; height: 20px; background-color: #cccccc;" type="text"/>	<input style="width: 30px; height: 20px; background-color: #cccccc;" type="text"/>	<input style="width: 30px; height: 20px; background-color: #cccccc;" type="text"/>	<input style="width: 30px; height: 20px; background-color: #cccccc;" type="text"/>	<input style="width: 30px; height: 20px; background-color: #cccccc;" type="text"/>

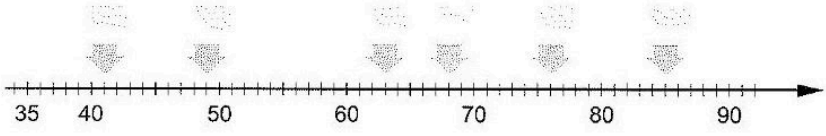
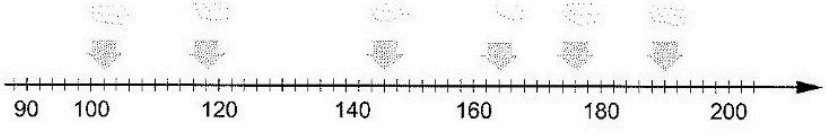
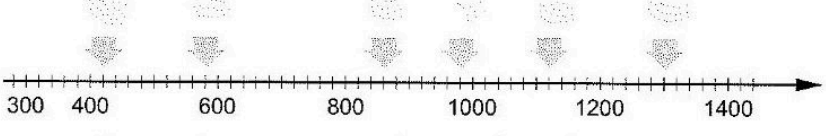


Station

Zahlenstrahl und natürliche Zahlen

Welche Zahlen sind auf dem Ausschnitt des Zahlenstrahls markiert? Trage in die grauen Kästchen ein.

A	
B	
C	
D	