





Station



Schriftliche Subtraktion

Rechne die Aufgaben schriftlich aus. Kreuze die passende Lösung an. Aus den Kennbuchstaben der richtigen Lösungen ergibt sich ein Lösungswort.

A

8	3	2	1	3
-	4	5	2	6

37949 (A)
 36349 (M)
 38349 (K)

B

9	4	3	1	7
-	5	3	9	6

39352 (I)
 39452 (O)
 40352 (M)

C

8	9	4	6	2
-	3	5	2	8

54179 (A)
 53179 (E)
 54279 (N)

D

8	8	7	1	8
-	5	2	8	3

25879 (U)
 35879 (Z)
 35779 (N)

E

9	6	8	7	0
-	5	6	9	1

39958 (O)
 40958 (M)
 39858 (S)

F

7	1	5	3	7
-	4	6	9	7

23559 (P)
 24459 (E)
 24559 (N)

G

5	3	7	5	3
-	2	9	1	2

23628 (N)
 24628 (A)
 24528 (E)


H

8	7	0	8	1
-	3	6	8	0




40275 (N)
 50175 (T)
 50275 (S)


Lösungswort:

A	
B	
C	
D	
E	
F	
G	
H	



Station



Zahlenmauer

Ziehe jeweils von der größeren Zahl die kleinere Zahl ab und trage dein Ergebnis in das Kästchen darunter ein. Löse die Aufgabe zunächst auf einem Zettel oder im Heft und übertrage dann deine Lösung in diese Zahlenmauer.

34235	17339	8734	4419	2272	1163	539	198

