





Station

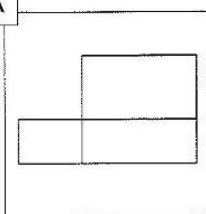






Würfel- und Quadernetze

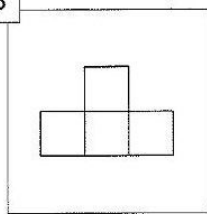
Was erhältst du, wenn du das Netz vervollständigst: Würfelnetz oder Quadernetz? Kreuze an!
Aus den Kennbuchstaben der richtigen Lösungen ergibt sich ein Lösungswort.

A



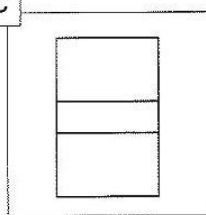
H Würfelnetz
 L Quadernetz

B



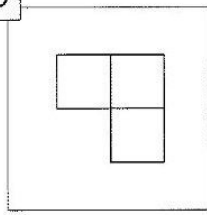
I Würfelnetz
 L Quadernetz

C



M Quadernetz
 D Würfelnetz


D






O Würfelnetz
 Z Quadernetz


Lösungswort:

A	B	C	D



Station

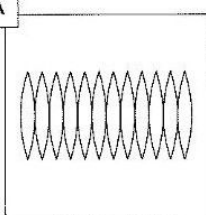






Geometrische Netze

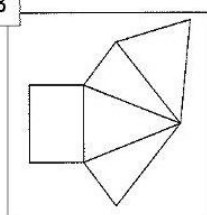
Kreuze an um welche geometrischen Netze es sich handelt. Aus den Kennbuchstaben der richtigen Lösungen ergibt sich ein Lösungswort.

A



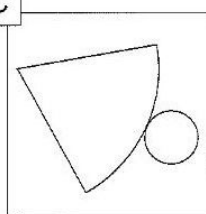
F Kugelnetz
 N Quadernetz
 K Kegelnetz

B



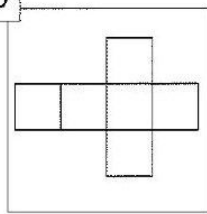
E Zylindernetz
 I Pyramidennetz
 B Prismannetz

C



T Würfelnetz
 D Quadernetz
 L Kegelnetz

D



M Würfelnetz
 I Zylindernetz
 D Kegelnetz

Lösungswort:

A	B	C	D

