





Station

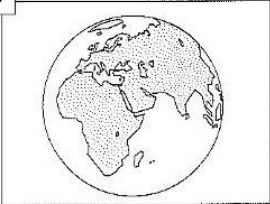







Geometrische Körper im Alltag

Kreuze den Körper an, den du in den Abbildungen entdeckst. Aus den Kennbuchstaben der richtigen Lösungen ergibt sich ein Lösungswort.


A



B



C



V Würfel

B Kugel

D Kegel

F Quader

E Pyramide


V Kugel

R Zylinder

Z Quader

L Würfel

D




K Prisma und Würfel


D Kugel und Kegel

T Zylinder und Quader





Lösungswort:


A	B	C	D

 KOHL Stationenlernen Mathematik / 4. Schuljahr - Bestell-Nr. 11 398



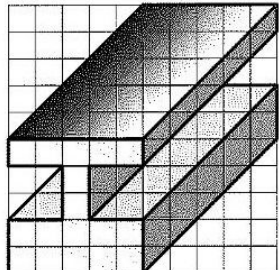
Station

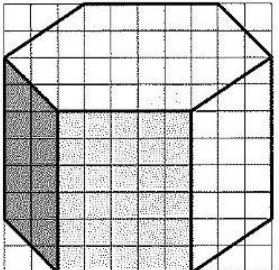





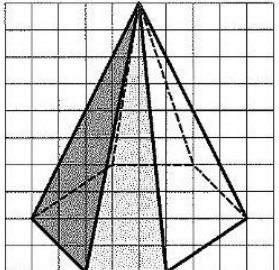


Schrägbilder von Körpern

Zeichne die Körper nach.







Mathematik

Seite 1/2

Angaben zu den Urhebern und Lizenzbedingungen der einzelnen Bestandteile dieses Dokuments finden Sie unter <https://www.tutory.de/entdecken/dokument/stationenlernen-mathematik-4-xxxiii>

