


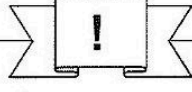


**Station**

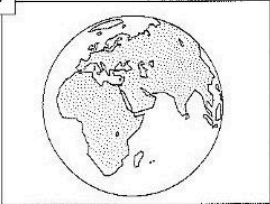







**Geometrische Körper im Alltag**

Kreuze den Körper an, den du in den Abbildungen entdeckst. Aus den Kennbuchstaben der richtigen Lösungen ergibt sich ein Lösungswort.


**A**



**B**



**C**



**V** Würfel

**B** Kugel

**D** Kegel

**F** Quader

**E** Pyramide


**V** Kugel

**R** Zylinder

**Z** Quader

**L** Würfel

**D**




**K** Prisma und Würfel


**D** Kugel und Kegel

**T** Zylinder und Quader





**Lösungswort:**


A	B	C	D

 KOHL Stationenlernen Mathematik / 4. Schuljahr - Bestell-Nr. 11 398



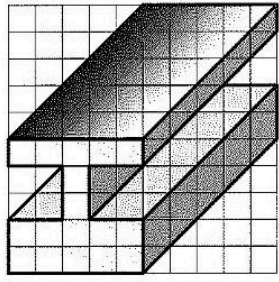
**Station**

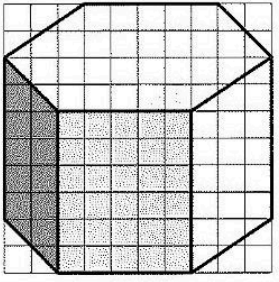





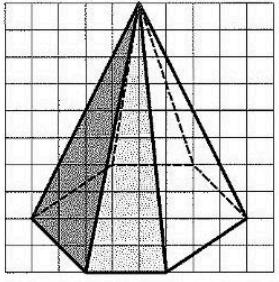


**Schrägbilder von Körpern**

Zeichne die Körper nach.







Mathematik

Seite 1/2

Angaben zu den Urhebern und Lizenzbedingungen der einzelnen Bestandteile dieses Dokuments finden Sie unter <https://www.tutory.de/entdecken/dokument/stationenlernen-mathematik-4-xxxiii>

