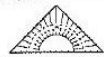







## Station

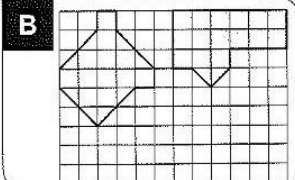


**Zeichnen von Flächen gleichen Flächeninhalts**  
Zeichne eine weitere Fläche, die den gleichen Flächeninhalt hat.


**A**




**B**




**C**




**D**




**E**




**F**




**G**





**H**






**I**




 KOHL Stationenlernen Mathematik / 4. Schuljahr - Bestell-Nr. 11 398



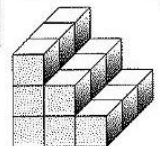
## Station



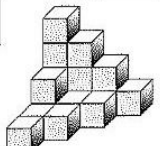
**Würfel zählen**  
Wie viele Würfel sind es? Kreuze die richtige Anzahl an! Die Kennbuchstaben ergeben ein Lösungswort.

**A**



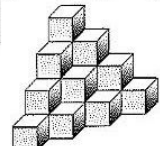
- K** 18 Würfel
- J** 19 Würfel
- L** 21 Würfel

**B**



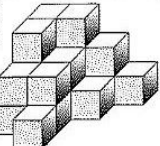
- A** 17 Würfel
- O** 19 Würfel
- E** 20 Würfel

**C**



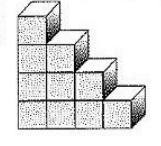
- S** 18 Würfel
- T** 20 Würfel
- U** 19 Würfel

**D**



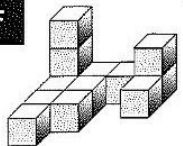
- H** 20 Würfel
- I** 22 Würfel
- S** 21 Würfel

**E**



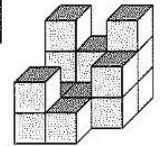
- I** 11 Würfel
- S** 12 Würfel
- R** 10 Würfel

**F**



- C** 12 Würfel
- I** 13 Würfel
- E** 11 Würfel

**G**



- L** 16 Würfel
- A** 14 Würfel
- N** 15 Würfel

**Lösungswort:**

<b>A</b>	<b>B</b>	<b>C</b>	<b>D</b>	<b>E</b>	<b>F</b>	<b>G</b>

Mathematik

Seite 1/2

Angaben zu den Urhebern und Lizenzbedingungen der einzelnen Bestandteile dieses Dokuments finden Sie unter <https://www.tutary.de/entdecken/dokument/stationenlernen-mathematik-4-xxx1>

