



Station

Messen von Strecken

Miss die Strecken und vergleiche deine Messung mit den Lösungen. Zeichne anschließend selbst diese Strecke hinzu. Aus den Kennbuchstaben der richtigen Lösungen ergibt sich das Lösungswort.

A

M 9 cm
T 12 cm
B 15 cm

Meine Strecke: _____

B

H 6 cm
J 4,5 cm
O 3 cm

Meine Strecke: _____

C

O 4,0 cm
N 4,4 cm
D 5,0 cm

Meine Strecke: _____


D

D 7,8 cm
P 8,8 cm
R 9,8 cm



Meine Strecke: _____

Lösungswort:

A	B	C	D



Station

Meter (m) / Zentimeter (cm)

Kreuze die Größe an, die den gleichen Wert wie vorher angibt. Die Buchstaben zur richtigen Lösung ergeben das Lösungswort.

A 860 cm = 8 m 60 cm =

M 8,60 m
P 6,80 m
K 8,06 m

B 630 cm = 6 m 30 cm =

A 3,60 m
A 6,30 m
G 6,60 m

C 209 cm = 2 m 9 cm =

B 2,90 m
S 9,02 m
L 2,09 m

D 553 cm = 5 m 53 cm =

C 3,35 m
E 5,53 m
V 5,33 m

E 101 cm = 1 m 1 cm =

N 1,01 m
G 1,10 m
F 0,11 m

Lösungswort: **A B C D E**

