




## Station

### Senkrecht

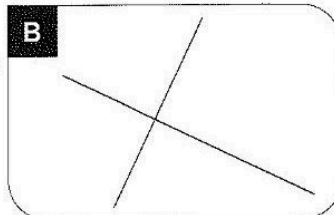
Entscheide, ob die beiden Geraden senkrecht aufeinander stehen. Die Buchstaben bei den richtigen Lösungen ergeben ein Lösungswort.

**A**



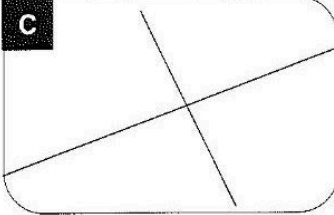
**H** ja  
**S** nein

**B**



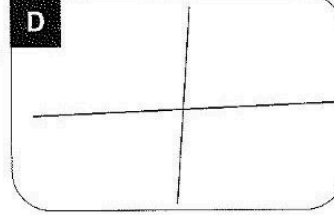
**H** ja  
**P** nein

**C**



**R** ja  
**O** nein


**D**





**A** ja  
**W** nein

**A B C C**

Lösungswort:



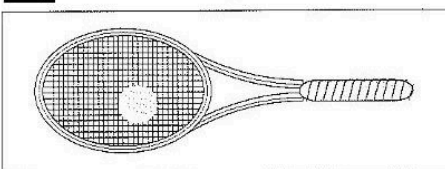
## Station

### Messen von Längen


Miss die folgenden Gegenstände auf den Abbildungen genau ab. Die Buchstaben der richtigen Lösungen ergeben das Lösungswort.

**A** Tennisschläger



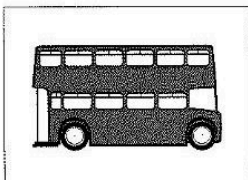
**B** 6,0 cm   **K** 8,0 cm   **S** 10,0 cm

**B** Motorrad




**Ü** 1,5 cm  
**A** 2,5 cm  
**N** 3,5 cm

**C** Bus



**W** 9,0 cm  
**S** 6,0 cm  
**U** 3,0 cm

**D** Fernsehgerät



**M** 4,0 cm  
**T** 6,0 cm  
**E** 8,0 cm

Lösungswort: **A B C D**

