




Station

Senkrecht

Entscheide, ob die beiden Geraden senkrecht aufeinander stehen. Die Buchstaben bei den richtigen Lösungen ergeben ein Lösungswort.

A



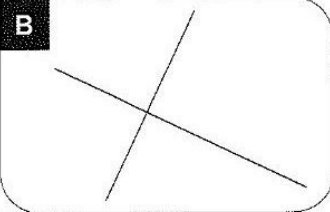
H

 ja

S

 nein

B



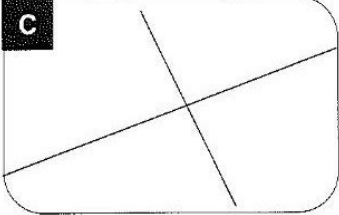
H

 ja

P

 nein

C



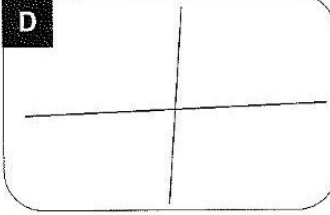
R

 ja

O

 nein

D



A

 ja

W

 nein


A

B



C

C

Lösungswort:



Station

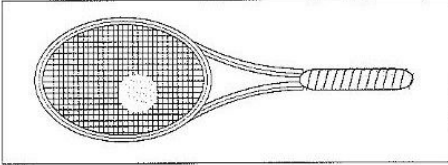



Messen von Längen

Miss die folgenden Gegenstände auf den Abbildungen genau ab. Die Buchstaben der richtigen Lösungen ergeben das Lösungswort.

A

Tennisschläger



B


 6,0 cm

K

 8,0 cm


S

 10,0 cm



B

Motorrad



Ü

 1,5 cm

A

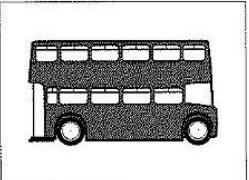
 2,5 cm

N

 3,5 cm

C

Bus



W

 9,0 cm

S

 6,0 cm

U

 3,0 cm

D

Fernsehgerät

M

 4,0 cm

T

 6,0 cm

E

 8,0 cm

Lösungswort:

A

B

C

D

