





## Station

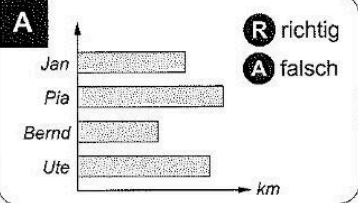






### Daten und Diagramme

Sind die Aussagen richtig oder falsch? Kreuze an! Die Kennbuchstaben ergeben ein Lösungswort.

**A**



**R** richtig  
**A** falsch

Jan hat den weitesten Schulweg.

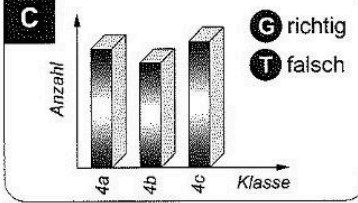
**B**

Mädchen	Jungen

**N** richtig  
**E** falsch

In der Jahrgangsstufe 4 sind 89 Kinder.

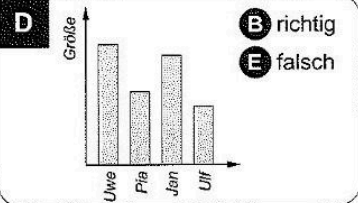
**C**



**G** richtig  
**T** falsch

In der Klasse 4c sind die meisten Kinder.

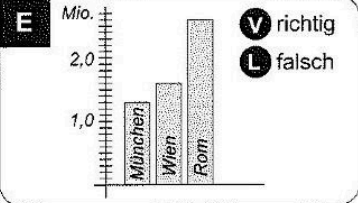
**D**



**B** richtig  
**E** falsch

Ulf ist größer als Pia.

**E**





**V** richtig  
**L** falsch

München hat mehr Einwohner als Wien.




**Lösungswort:**

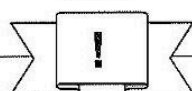
<b>A</b>	<b>B</b>	<b>C</b>	<b>D</b>	<b>E</b>

 KOHL VERLAG Stationenlernen Mathematik / 4. Schuljahr - Bestell-Nr. 11 398



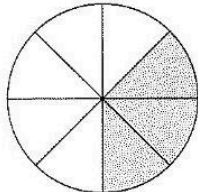
## Station



### Brüche erkennen

Welcher Bruchteil der Figur ist hier jeweils gekennzeichnet? Kreuze die passende Antwort an. Aus den Kennbuchstaben der richtigen Lösungen ergibt sich ein Lösungswort.



**A**

M

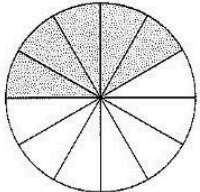
$\frac{2}{3}$

A

$\frac{3}{8}$

K

$\frac{7}{10}$



**B**

Z

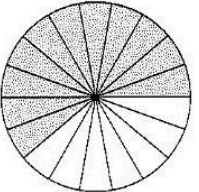
$\frac{5}{8}$

L

$\frac{5}{10}$

N

$\frac{5}{12}$



**C**

K

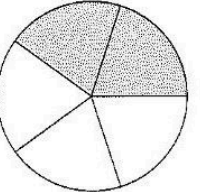
$\frac{11}{18}$

R

$\frac{7}{9}$

S

$\frac{8}{15}$



**D**

E

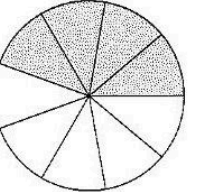
$\frac{2}{5}$

T

$\frac{3}{5}$

F

$\frac{1}{3}$



**E**

I

$\frac{3}{4}$

R

$\frac{4}{9}$

O

$\frac{5}{8}$

**Lösungswort:**

<b>A</b>	<b>B</b>	<b>C</b>	<b>D</b>	<b>E</b>

Mathematik

Seite 1/2

Angaben zu den Urhebern und Lizenzbedingungen der einzelnen Bestandteile dieses Dokuments finden Sie unter <https://www.tutory.de/entdecken/dokument/stationenlernen-mathematik-4-xxii>

