











## Station




**Zeitspannen**  
Gib die entsprechende Uhrzeit an. Die Kennbuchstaben bei den richtigen Lösungen ergeben ein Lösungswort.




<b>A</b>	<b>B</b>	<b>C</b>	<b>D</b>	<b>E</b>	<b>F</b>
					
Wie spät ist es in 3 Stunden und 28 Minuten?	Wie spät war es vor 1 Stunde und 32 Minuten?	Wie spät war es vor 57 Minuten?	Wie spät ist es in 2 Stunden und 46 Minuten?	Wie spät ist es in 6 Stunden und 17 Minuten?	Wie spät war es vor 3 Stunden und 5 Minuten?
12:05 <b>A</b>	13:06 <b>Z</b>	14:48 <b>S</b>	7:03 <b>B</b>	00:52 <b>A</b>	6:30 <b>O</b>
12:03 <b>M</b>	12:04 <b>U</b>	14:52 <b>R</b>	8:03 <b>K</b>	00:58 <b>E</b>	4:30 <b>W</b>
12:07 <b>R</b>	13:02 <b>O</b>	13:48 <b>L</b>	8:13 <b>P</b>	00:42 <b>N</b>	5:30 <b>U</b>


**Lösungswort:**

<b>A</b>	<b>B</b>	<b>C</b>	<b>D</b>	<b>E</b>	<b>F</b>
<input style="width: 30px; height: 20px;" type="text"/>	<input style="width: 30px; height: 20px;" type="text"/>	<input style="width: 30px; height: 20px;" type="text"/>	<input style="width: 30px; height: 20px;" type="text"/>	<input style="width: 30px; height: 20px;" type="text"/>	<input style="width: 30px; height: 20px;" type="text"/>

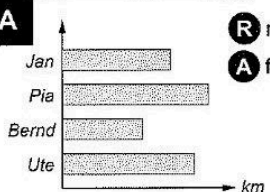
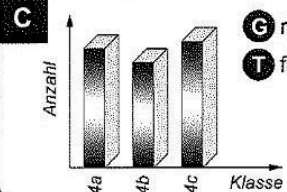
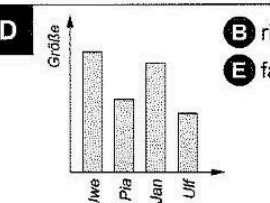
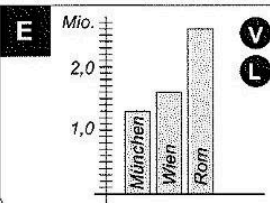


## Station



**Daten und Diagramme**  
Sind die Aussagen richtig oder falsch? Kreuze an! Die Kennbuchstaben ergeben ein Lösungswort.

<div style="border: 1px solid black; padding: 5px;"> <p><b>A</b></p>  <p style="text-align: right;"><b>R</b> richtig <b>A</b> falsch</p> <p>Jan hat den weitesten Schulweg.</p> </div>	<div style="border: 1px solid black; padding: 5px;"> <p><b>B</b></p> <table style="width: 100%; text-align: center;"> <tr> <th>Mädchen</th> <th>Jungen</th> </tr> <tr> <td>     </td> <td>     </td> </tr> <tr> <td>     </td> <td>     </td> </tr> <tr> <td>     </td> <td>     </td> </tr> <tr> <td>     </td> <td>     </td> </tr> </table> <p style="text-align: right;"><b>N</b> richtig <b>E</b> falsch</p> <p>In der Jahrgangsstufe 4 sind 89 Kinder.</p> </div>	Mädchen	Jungen									<div style="border: 1px solid black; padding: 5px;"> <p><b>C</b></p>  <p style="text-align: right;"><b>G</b> richtig <b>T</b> falsch</p> <p>In der Klasse 4c sind die meisten Kinder.</p> </div>
Mädchen	Jungen											
<div style="border: 1px solid black; padding: 5px;"> <p><b>D</b></p>  <p style="text-align: right;"><b>B</b> richtig <b>E</b> falsch</p> <p>Ulf ist größer als Pia.</p> </div>	<div style="border: 1px solid black; padding: 5px;"> <p><b>E</b></p>  <p style="text-align: right;"><b>V</b> richtig <b>L</b> falsch</p> <p>München hat mehr Einwohner als Wien.</p> </div>	<p><b>Lösungswort:</b></p> <table style="width: 100%; text-align: center;"> <tr> <td style="width: 20%;"><b>A</b></td> <td style="width: 20%;"><b>B</b></td> <td style="width: 20%;"><b>C</b></td> <td style="width: 20%;"><b>D</b></td> <td style="width: 20%;"><b>E</b></td> </tr> <tr> <td><input style="width: 30px; height: 20px;" type="text"/></td> <td><input style="width: 30px; height: 20px;" type="text"/></td> <td><input style="width: 30px; height: 20px;" type="text"/></td> <td><input style="width: 30px; height: 20px;" type="text"/></td> <td><input style="width: 30px; height: 20px;" type="text"/></td> </tr> </table>	<b>A</b>	<b>B</b>	<b>C</b>	<b>D</b>	<b>E</b>	<input style="width: 30px; height: 20px;" type="text"/>	<input style="width: 30px; height: 20px;" type="text"/>	<input style="width: 30px; height: 20px;" type="text"/>	<input style="width: 30px; height: 20px;" type="text"/>	<input style="width: 30px; height: 20px;" type="text"/>
<b>A</b>	<b>B</b>	<b>C</b>	<b>D</b>	<b>E</b>								
<input style="width: 30px; height: 20px;" type="text"/>	<input style="width: 30px; height: 20px;" type="text"/>	<input style="width: 30px; height: 20px;" type="text"/>	<input style="width: 30px; height: 20px;" type="text"/>	<input style="width: 30px; height: 20px;" type="text"/>								

