


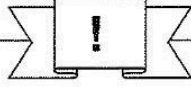








Station











Zeitspannen
Gib die entsprechende Uhrzeit an. Die Kennbuchstaben bei den richtigen Lösungen ergeben ein Lösungswort.


A	B	C	D	E	F
					
Wie spät ist es in 3 Stunden und 28 Minuten?	Wie spät war es vor 1 Stunde und 32 Minuten?	Wie spät war es vor 57 Minuten?	Wie spät ist es in 2 Stunden und 46 Minuten?	Wie spät ist es in 6 Stunden und 17 Minuten?	Wie spät war es vor 3 Stunden und 5 Minuten?
12:05 A	13:06 Z	14:48 S	7:03 B	00:52 A	6:30 O
12:03 M	12:04 U	14:52 R	8:03 K	00:58 E	4:30 W
12:07 R	13:02 O	13:48 L	8:13 P	00:42 N	5:30 U
Lösungswort:					
A	B	C	D	E	F
<input type="text"/>	<input type="text"/>	<input type="text"/>	<input type="text"/>	<input type="text"/>	<input type="text"/>

 **KOHL** Stationenlernen Mathematik / 4. Schuljahr - Bestell-Nr. 11 398

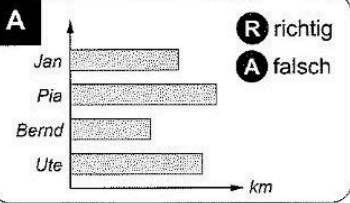
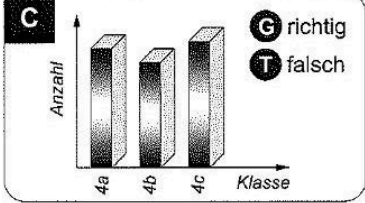
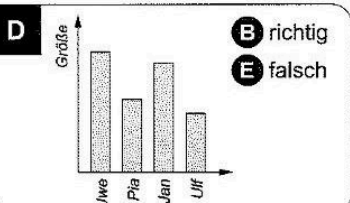
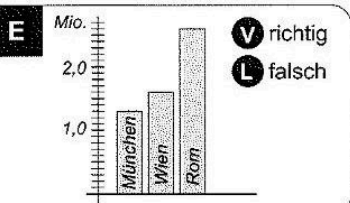


Station



Daten und Diagramme
Sind die Aussagen richtig oder falsch? Kreuze an! Die Kennbuchstaben ergeben ein Lösungswort.

<p>A</p>  <p>R richtig A falsch</p> <p>Jan hat den weitesten Schulweg.</p>	<p>B</p> <table border="1" style="width: 100%; text-align: center;"> <tr> <th>Mädchen</th> <th>Jungen</th> </tr> <tr> <td>#####</td> <td>#####</td> </tr> <tr> <td>#####</td> <td>#####</td> </tr> <tr> <td>#####</td> <td>#####</td> </tr> <tr> <td>#####</td> <td>#####</td> </tr> </table> <p>N richtig E falsch</p> <p>In der Jahrgangsstufe 4 sind 89 Kinder.</p>	Mädchen	Jungen	#####	#####	#####	#####	#####	#####	#####	#####	<p>C</p>  <p>G richtig T falsch</p> <p>In der Klasse 4c sind die meisten Kinder.</p>
Mädchen	Jungen											
#####	#####											
#####	#####											
#####	#####											
#####	#####											
<p>D</p>  <p>B richtig E falsch</p> <p>Ulf ist größer als Pia.</p>	<p>E</p>  <p>V richtig L falsch</p> <p>München hat mehr Einwohner als Wien.</p>	<p>Lösungswort:</p> <table border="1" style="width: 100%; text-align: center;"> <tr> <td style="width: 20%;">A</td> <td style="width: 20%;">B</td> <td style="width: 20%;">C</td> <td style="width: 20%;">D</td> <td style="width: 20%;">E</td> </tr> <tr> <td style="text-align: center;"><input type="text"/></td> <td style="text-align: center;"><input type="text"/></td> <td style="text-align: center;"><input type="text"/></td> <td style="text-align: center;"><input type="text"/></td> <td style="text-align: center;"><input type="text"/></td> </tr> </table>	A	B	C	D	E	<input type="text"/>	<input type="text"/>	<input type="text"/>	<input type="text"/>	<input type="text"/>
A	B	C	D	E								
<input type="text"/>	<input type="text"/>	<input type="text"/>	<input type="text"/>	<input type="text"/>								

