






Station



Zahlenstrahl


Kreuze die am Zahlenstrahl angezeigte Zahl an. Aus den Kennbuchstaben der Lösungen ergibt sich ein Lösungswort.




A 160 Z 200 G 260 K	B 450 R 430 O 410 A	C 590 Z 690 E 790 P	D 620 H 680 F 720 I	E 840 D 880 R 920 T	F 900 S 950 E 1000 H
--	--	--	--	--	---




Lösungswort:


A	B	C	D	E	F
<input type="text"/>	<input type="text"/>	<input type="text"/>	<input type="text"/>	<input type="text"/>	<input type="text"/>

 Stationenlernen Mathematik / 4. Schuljahr - Bestell-Nr. 11 398




Station



Zahlenstrahl

Kreuze die am Zahlenstrahl angezeigte Zahl an. Aus den Kennbuchstaben der Lösungen ergibt sich ein Lösungswort.



A 100 Z 110 S 120 K	B 127 D 130 O 133 I	C 139 N 149 H 159 P	D 120 H 140 F 160 G	E 178 E 185 R 193 T	F 200 S 188 N 176 H
--	--	--	--	--	--

Lösungswort:

A	B	C	D	E	F
<input type="text"/>	<input type="text"/>	<input type="text"/>	<input type="text"/>	<input type="text"/>	<input type="text"/>

Mathematik

Seite 1/2

Angaben zu den Urhebern und Lizenzbedingungen der einzelnen Bestandteile dieses Dokuments finden Sie unter <https://www.tutory.de/entdecken/dokument/stationenlernen-mathematik-4-xv>

