





Station



Gleichungen lösen durch Rückwärtsrechnen

Fülle die Rechenkettens aus und bestimme die Zahl im ersten Kästchen. Die Kennbuchstaben bei den richtigen Lösungen ergeben ein Lösungswort.

A Wenn ich eine Zahl durch 6 teile und von dem Ergebnis 25 abziehe, erhalte ich 16.

L 236
T 252
G 246

→
 →
 16

B Wenn ich eine Zahl mit 5 malnehme und zu dem Ergebnis 17 addiere, erhalte ich 62.

O 10
R 9
I 15

→
 →
 62

C Wenn ich eine Zahl mit 6 malnehme und zu dem Ergebnis 12 addiere, erhalte ich 72.

A 10
T 12
N 9

→
 →
 72

D Wenn ich eine Zahl durch 5 teile und von dem Ergebnis 83 subtrahiere, erhalte ich 5.

N 420
E 460
M 440

→
 →
 5


E Wenn ich eine Zahl mit 7 malnehme und zu dem Ergebnis 113 addiere, erhalte ich 197.

M 12
E 14
R 11




→
 →
 197


Lösungswort:

A	B	C	D	E



Station



Große Zahlen

Schreibe mit Ziffern in die Stellentafel. Die Buchstaben bei den richtigen Lösungen ergeben ein Lösungswort.

A

M	HT	ZT	T	H	Z	E
••	••••	••••	••••	••••	••••	••••

M 3 630 658
S 3 530 659
G 3 531 659

B

M	HT	ZT	T	H	Z	E
••••	••••	••••	••••	••••	••••	••••

L 6 999 208
Ä 6 098 208
A 6 099 208

C

M	HT	ZT	T	H	Z	E
••	••••	••••	••••	••••	••••	••••

L 1 762 764
W 1 762 864
V 1 752 764

D

M	HT	ZT	T	H	Z	E
••••	••••	••••	••••	••••	••••	••••

Y 5 114 817
P 5 115 907
T 5 115 917

E

M	HT	ZT	T	H	Z	E
••••	••••	••••	••••	••••	••••	••••

O 8 647 230
R 8 547 230
Z 8 647 320

Lösungswort:

A	B	C	D	E

Mathematik

Seite 1/2

Angaben zu den Urhebern und Lizenzbedingungen der einzelnen Bestandteile dieses Dokuments finden Sie unter <https://www.tutory.de/entdecken/dokument/stationenlernen-mathematik-4-xiii>

