














## Station




### Rechendiktat

Rechne die Aufgaben aus und schreibe die Lösungen in die freien Felder unter den Aufgaben! Male im Kontrollbild die Felder mit den Lösungszahlen farbig aus!




<b>A</b>  kleinste Zahl mal größte Zahl minus mittlere Zahl <input style="width: 100px; height: 20px;" type="text"/>	<b>B</b>  mittlere Zahl mal größte Zahl plus kleinste Zahl <input style="width: 100px; height: 20px;" type="text"/>	<b>C</b>  größte Zahl mal mittlere Zahl minus kleinste Zahl <input style="width: 100px; height: 20px;" type="text"/>
<b>D</b>  kleinste Zahl mal größte Zahl plus mittlere Zahl <input style="width: 100px; height: 20px;" type="text"/>	<b>E</b>  mittlere Zahl mal kleinste Zahl minus größte Zahl <input style="width: 100px; height: 20px;" type="text"/>	<b>F</b>  größte Zahl mal mittlere Zahl plus kleinste Zahl <input style="width: 100px; height: 20px;" type="text"/>
<b>G</b>  kleinste Zahl mal mittlere Zahl minus größte Zahl <input style="width: 100px; height: 20px;" type="text"/>	<b>H</b>  mittlere Zahl mal kleinste Zahl plus größte Zahl <input style="width: 100px; height: 20px;" type="text"/>	<b>I</b>  größte Zahl mal kleinste Zahl minus mittlere Zahl <input style="width: 100px; height: 20px;" type="text"/>


**Kontrollbild**

2410	
2510	
2120	
6270	5140
3920	3110
2920	1970
4720	5330
4890	1690
2780	3270
2050	5760















## Station



### Kettenaufgaben mit Hundertern

Rechne die Aufgaben aus und verbinde die Aufgaben mit den zugehörigen Lösungen. Aus den Buchstaben, die auf den Verbindungslinien liegen, ergibt sich ein Lösungswort.

<b>A</b> $5 \cdot 900 + 180 =$  3270 <b>B</b> $9 \cdot 300 + 570 =$  3000 <b>C</b> $5 \cdot 600 + 400 =$  2850 <b>D</b> $6 \cdot 350 + 750 =$  4680 <b>E</b> $4 \cdot 700 + 270 =$  3400 <b>F</b> $5 \cdot 550 + 250 =$  3070	<b>G</b> $7 \cdot 800 + 700 =$  7700 <b>H</b> $9 \cdot 800 + 500 =$  6300 <b>I</b> $5 \cdot 350 + 150 =$  4500 <b>J</b> $6 \cdot 700 + 300 =$  4600 <b>K</b> $4 \cdot 250 + 100 =$  1100 <b>L</b> $5 \cdot 800 + 600 =$  1900
--	--

**Lösungswort:**

**A B C D E F**

--	--	--	--	--	--

**Lösungswort:**

**G H I J K L**

--	--	--	--	--	--

