





Station



Ergänzungsaufgaben

Löse zuerst alle Aufgaben im Kopf und schreibe die Lösungen in die freien Felder!
Male dann die Felder mit den Lösungszahlen in deinen Lieblingsfarben aus!


A $3430 + \square = 6000$
 $2550 + \square = 6000$
 $1680 + \square = 6000$
 $2930 + \square = 6000$


	5170	3170		
	2570	3750	3210	5310
	7060		5330	
3070	1030	4370	4330	7110
2040	3040	4310	1170	6280
	7330	3790	5560	5130
	3560	4790		
	4320	7430		

B $2940 + \square = 10000$
 $4870 + \square = 10000$
 $3720 + \square = 10000$
 $2670 + \square = 10000$




C $1890 + \square = 9000$
 $4210 + \square = 9000$
 $5960 + \square = 9000$
 $3690 + \square = 9000$


D $5970 + \square = 7000$
 $3440 + \square = 7000$
 $3830 + \square = 7000$
 $1670 + \square = 7000$

 KOHL Stationenlernen Mathematik / 4. Schuljahr - Bestell-Nr. 11 398



Station



Halbschriftliche Multiplikation

Multipliziere halbschriftlich. Die Kennbuchstaben bei den richtigen Lösungen ergeben ein Lösungswort.

A $327 \cdot 5 =$

$300 \cdot 5 =$

$20 \cdot 5 =$

$7 \cdot 5 =$

B $618 \cdot 7 =$

$600 \cdot 7 =$

$10 \cdot 7 =$

C $784 \cdot 4 =$

$700 \cdot 4 =$

E $826 \cdot 8 =$

D $569 \cdot 6 =$

F $487 \cdot 9 =$

Lösungswort:

A	
B	
C	
D	
E	
F	

Mathematik

Seite 1/2

Angaben zu den Urhebern und Lizenzbedingungen der einzelnen Bestandteile dieses Dokuments finden Sie unter <https://www.tutory.de/entdecken/dokument/stationenlernen-mathematik-4-viii>

