





Station



Lauter Kettenaufgaben

Übertrage die Kettenaufgaben aus der Tabelle in die freien Felder und rechne sie im Kopf aus!

+	180	490	350	260	-	
190	J		B	H		130
380		F	L	D		
470	G	I	A			170
240	C		E	K		

A $470 + 350 - 170 = 650$

C $240 + \quad =$

E

G

I

K

B $190 + 350 =$


D


F

H




J


L

 **KOHL** Stationenlernen Mathematik / 4. Schuljahr - Bestell-Nr. 11 398



Station



Wie musst du rechnen?

Kreuze bei jeder Aufgabe an, welche Rechnung zur Lösung der Aufgabe führt.
Übertrage dann die Zahlen in die leeren Felder und rechne die Aufgaben schriftlich aus.

A $3425 = 1146 + \underline{\quad}$

$3425 + 1146 = \underline{\quad}$

$3425 - 1146 = \underline{\quad}$

B $2916 = \underline{\quad} - 1983$

$2916 + 1983 = \underline{\quad}$

$2916 - 1983 = \underline{\quad}$

C $2978 + \underline{\quad} = 1318$

$2978 + 1318 = \underline{\quad}$

$2978 - 1318 = \underline{\quad}$

D $\underline{\quad} - 2957 = 4203$

$2957 + 4203 = \underline{\quad}$

$4203 - 2957 = \underline{\quad}$

Lösungen zum Ankreuzen:

- 1660
- 2579
- 4899
- 3988
- 6190
- 2279
- 7160
- 2369

