





## Station





**Lauter Kettenaufgaben**

Übertrage die Kettenaufgaben aus der Tabelle in die freien Felder und rechne sie im Kopf aus!




+	180	490	350	260	-	
190	J		B	H		
380		F	L	D	130	
470	G	I	A			
240	C		E	K	170	


<b>A</b>	$470 + 350 - 170 = 650$	<b>B</b>	$190 + 350 =$
<b>C</b>	$240 + \quad =$	<b>D</b>	
<b>E</b>		<b>F</b>	
<b>G</b>		<b>H</b>	
<b>I</b>		<b>J</b>	
<b>K</b>		<b>L</b>	

 **KOHL** Stationenlernen Mathematik / 4. Schuljahr - Bestell-Nr. 11 398



## Station



**Wie musst du rechnen?**

Kreuze bei jeder Aufgabe an, welche Rechnung zur Lösung der Aufgabe führt.  
Übertrage dann die Zahlen in die leeren Felder und rechne die Aufgaben schriftlich aus.

<b>A</b> $3425 = 1146 + \underline{\quad}$		<b>B</b> $2916 = \underline{\quad} - 1983$	
$3425 + 1146 = \underline{\quad}$		$2916 + 1983 = \underline{\quad}$	+
$3425 - 1146 = \underline{\quad}$		$2916 - 1983 = \underline{\quad}$	

<b>C</b> $2978 + \underline{\quad} = 1318$		<b>D</b> $\underline{\quad} - 2957 = 4203$	
$2978 + 1318 = \underline{\quad}$		$2957 + 4203 = \underline{\quad}$	
$2978 - 1318 = \underline{\quad}$		$4203 - 2957 = \underline{\quad}$	

**Lösungen zum Ankreuzen:**

- 1660
- 2579
- 4899
- 3988
- 6190
- 2279
- 7160
- 2369

