


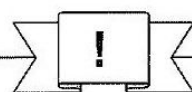


Station



THZE + HZE mit Überschreitung

Rechne jede Aufgabe im Kopf! Verbinde die Aufgabe mit der zugehörigen Lösungszahl. Aus den Kennbuchstaben der richtigen Antworten ergibt sich ein Lösungswort.

A $2384 + 879 =$

- 3153 FA
- 3363 AL
- 3263 BE

B $5127 + 308 =$

- 5453 HE
- 5435 RG
- 5473 MU

C $2837 + 882 =$

- 3719 MA
- 3179 KL
- 3917 RE

D $1779 + 526 =$

- 2305 NN
- 3205 WE
- 2350 ZU

E $5604 + 426 =$

- 6030 PO
- 6130 TA
- 6003 LE

F $1854 + 378 =$

- 2233 FA
- 2252 AS
- 2232 LJ

G $5168 + 927 =$

- 6095 ZI
- 6905 SC
- 6509 RE

H $3877 + 565 =$


- 4452 HE
- 4442 ST
- 4432 VA


Lösungswort:

A	B	C	D




Lösungswort:


E	F	G	H

 Stationenlernen Mathematik / 4. Schuljahr - Bestell-Nr. 11 398



Station



Schriftliche Addition mit Komma

Kreuze die richtig gerundete Zahl an. Aus den Kennbuchstaben der richtigen Lösungen ergibt sich ein Lösungswort.

A

	3,3
+	2,2

H 5,5
 B 6,5
 Z 7,5

B

	8,2
+	1,1

D 9,6
 A 9,3
 K 9,9

C

	9,0
+	0,9

P 9,0
 G 9,5
 N 9,9

D

	8,8
+	4,1

U 11,9
 D 12,9
 S 13,9

E

	7,2
+	5,5

Q 12,2
 O 12,5
 B 12,7

F

	10,2
+	7,6

N 15,8
 A 17,8
 R 19,8

G

	11,5
+	12,4

L 23,9
 F 18,9
 I 13,9

H

	13,2
+	15,5

W 8,7
 T 18,7
 L 28,7

Lösungswort:

A	B	C	D	E	F	G	H

Mathematik

Seite 1/2

Angaben zu den Urhebern und Lizenzbedingungen der einzelnen Bestandteile dieses Dokuments finden Sie unter <https://www.tutory.de/entdecken/dokument/stationenlernen-mathematik-4-iii>

