
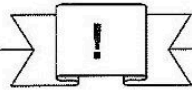


Station

Addition mit Überschreitung

Rechne die Aufgaben aus und schreibe die Lösungen in die freien Felder. Zeichne rechts im Kontrollfeld eine gerade Linie vom Aufgaben-Buchstaben zur Lösung.

A $5840 + 3710 =$

B $2630 + 5620 =$

C $4860 + 3650 =$

D $1790 + 4530 =$

E $5870 + 1490 =$

F $4520 + 1980 =$

G $3440 + 2970 =$

H $6580 + 1860 =$

I $3750 + 5560 =$


J $3420 + 3790 =$


K $4840 + 4570 =$

L $5690 + 1740 =$



A
B
C
D
E
F
G
H
I
J
K
L

8250
6320
9550
8510
7360
6410
9310
6500
7210
8440
9410
7430

 Stationenlernen Mathematik / 4. Schuljahr - Bestell-Nr. 11 398



Station

THZE + HZE ohne Überschreitung

Rechne jede Aufgabe im Kopf! Verbinde die Aufgabe mit der zugehörigen Lösungszahl. Aus den Kennbuchstaben der richtigen Antworten ergibt sich ein Lösungswort.

A $2372 + 415 =$ ● 2687 FA
● 2787 HE
● 2797 BE

B $3126 + 471 =$ ● 3597 RB
● 3587 RG
● 3697 MU

C $1534 + 445 =$ ● 1979 ER
● 1869 KL
● 1989 RE

D $4715 + 273 =$ ● 4978 NN
● 4998 WE
● 4988 GE

E $3204 + 567 =$ ● 3871 PO
● 3761 TA
● 3771 OB

F $2354 + 315 =$ ● 2669 ST
● 2679 AS
● 2769 LI

G $5168 + 831 =$ ● 5899 ZI
● 5989 SC
● 5999 BA

H $3374 + 523 =$ ● 3887 HE
● 3897 UM
● 3797 VA

Lösungswort:

A

B

C

D

Lösungswort:

E

F

G

H

Mathematik

Seite 1/2

Angaben zu den Urhebern und Lizenzbedingungen der einzelnen Bestandteile dieses Dokuments finden Sie unter <https://www.tutory.de/entdecken/dokument/stationenlernen-mathematik-4-ii>

